

بسم الله الرحمن الرحيم

النقطة والملاحظة:

10



المستوى : الرابع ابتدائي.

المادة: الرياضيات

المدة الزمنية: 1 ساعة

التاريخ:

السنة الدراسية: 2015 - 2016

الاسم والنسب:

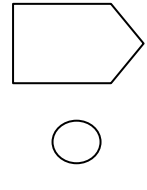
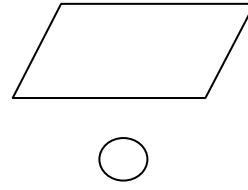
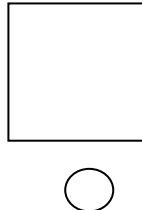

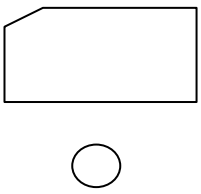
الفرض الأول الدورة الثانية.

1. أنشطة هندسية: المضلعات - التماثل المحوري (4ن)

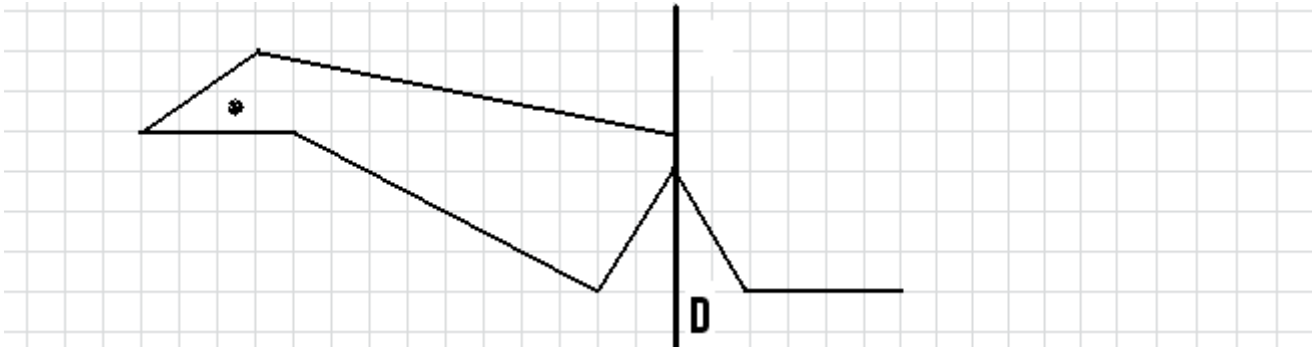
1) لاحظ الأشكال جيدا ثم (2ن):

✓ ضع علامة (X) تحت كل شكل ليس له محور تماثل.

✓ أرسم جميع محاور تماثل الأشكال الأخرى.



2) أرسم ممائل الشكل بالنسبة للمستقيم (D) (1ن).



4) أرسم مثلث ABC قائم الزاوية في A
و AC=4cm و AB=3cm (0,5ن)

3) أرسم مثلث متساوي الساقين طولهما 4cm (0,5ن).



إنجاز: عادل بونوار

