

الامتحان الوطني الموحد للبكالوريا

الدورة الاستدراكية 2016

- الموضوع -

RS 34

المملكة المغربية
وزارة التربية الوطنية
والتكوين المهني



المركز الوطني للتقويم
والامتحانات والتوجيه

الصفحة
1
6
ع
Σ

3	مدة الإنجاز	علوم الحياة والأرض	المادة
5	المعامل	شعبة العلوم التجريبية مسلك العلوم الفيزيائية	الشعبة أو المسلك

لا يسمح باستعمال الآلة الحاسبة

المكون الأول: استرداد المعارف (5 نقط)

(1ن)

I. عرّف (ي) ما يلي :

الاحتباس الحراري - ظاهرة التخاسب.

II. أذكر (ي) :

1 - مجالين تستعمل فيهما المواد إشعاعية النشاط.

2 - إجراءين يسمحان بتثمين المواد العضوية الموجودة في النفايات المنزلية.

III. يوجد اقتراح صحيح بالنسبة لكل معطى من المعطيات التالية المرقمة من 1 إلى 4. أنقل (ي) الأزواج الآتية على

ورقة تحريرك، ثم أكتب (ي) داخل كل زوج الحرف المقابل للاقتراح الصحيح.

(2 ن)

(... ، 1) (... ، 2) (... ، 3) (... ، 4)

4 - تتم عملية انتقاء النفايات عبر المراحل الآتية :

- 1م. نقل حزم النفايات المنتقاة إلى وحدات التدوير.
- 2م. جمع النفايات .
- 3م. الفرز في المنزل.
- 4م. استقبال النفايات في مركز الانتقاء.
- 5م. الفرز في مركز الانتقاء.

ترتيب هذه المراحل هو:

- أ. 3م ← 2م ← 4م ← 5م ← 1م؛
- ب. 3م ← 5م ← 4م ← 1م ← 2م؛
- ج. 3م ← 4م ← 1م ← 2م ← 5م؛
- د. 3م ← 1م ← 2م ← 5م ← 4م.

1- يتسبب تسرب الليكسيفيا عبر آفاق التربة في:

أ. تشكل غاز الميثان.

ب. حدوث الاحتباس الحراري.

ج. تساقط الأمطار الحمضية.

د. تلوث الفرشات المائية.

2- ينتج الارتفاع المفرط لتركيز الغازات الدفيئة في

الهواء عن استعمال الطاقة:

أ. الريحية.

ب. الأحفورية.

ج. الجيوحرارية.

د. المائية.

3 - لمراقبة جودة الأوساط المائية نعتمد على :

أ. المؤشر الاحيائي IBQS .

ب. معياري DCO و DBO5.

ج. تركيز غاز الميثان.

د. كثافة الفلورة الكبيرة.

IV. أنقل (ي) على ورقة تحريرك الرقم المقابل لكل اقتراح من الاقتراحات الآتية، ثم أكتب (ي) أمامه " صحيح" أو " خطأ". (1ن)

1 ن - يعطي تفتت نوى ذرات المواد الإشعاعية النشاط طاقة قابلة للاستغلال.

2 ن - تساهم الأنشطة الصناعية والفلاحية المكثفة في ثبات تركيز ثنائي أوكسيد الكربون في الغلاف الجوي.

3 ن - تنتج الأمطار الحمضية عن ارتفاع نسبة كل من أوكسيد الأوزون وأوكسيد الكبريت في الغلاف الجوي.

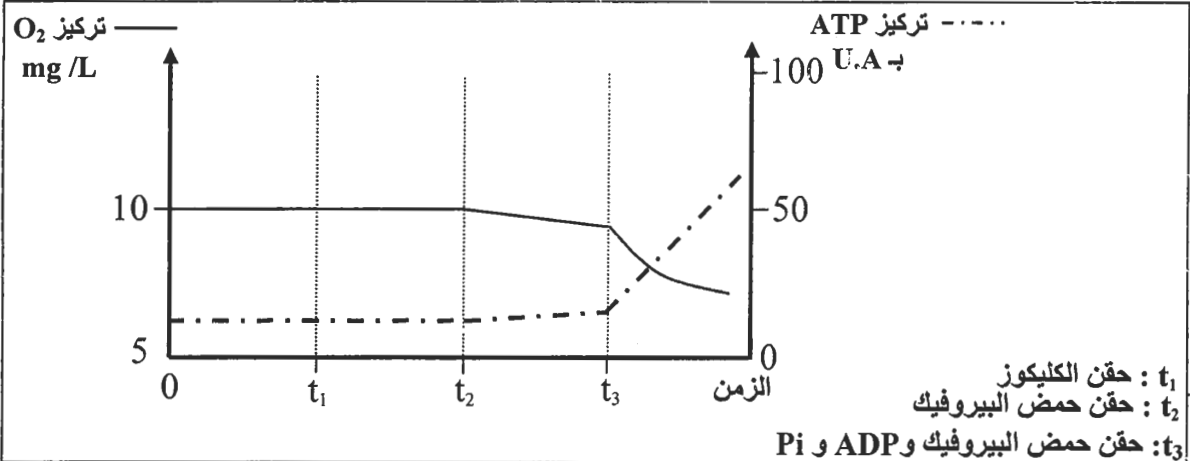
4 ن - ينتج انخفاض سمك طبقة الأوزون عن تفاعل الأوزون مع ثنائي أوكسيد الكربون.

المكون الثاني: الاستدلال العلمي والتواصل الكتابي والبياني (15 نقطة)

التمرين الأول (5 نقط)

لتحديد العلاقة بين تفاعلات استهلاك ثنائي الأوكسجين وتركيب ATP على مستوى الميتوكوندري، نُقدّم المعطيات التجريبية الآتية:

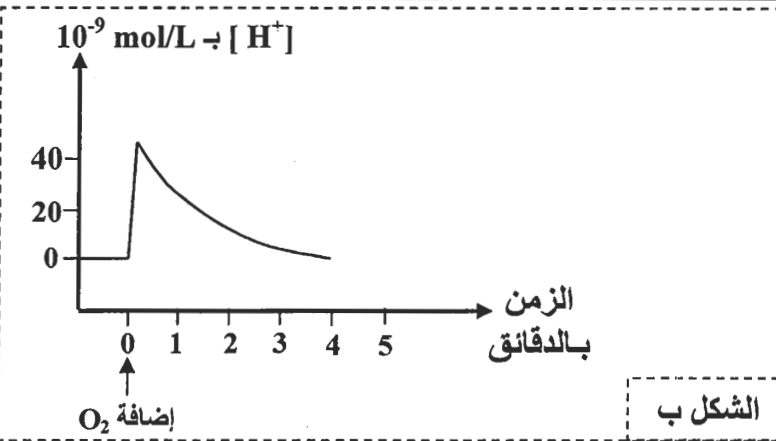
- التجربة الأولى: وضعت ميتوكوندريات معزولة من خلايا حية في وسط ملائم مشبع بثنائي الأوكسجين (O_2)، ثم تمّ تتبّع تطور تركيز كل من ثنائي الأوكسجين المستهلك و ATP المنتجة في هذا الوسط. تقدم الوثيقة 1 الظروف التجريبية والنتائج المحصل عليها.



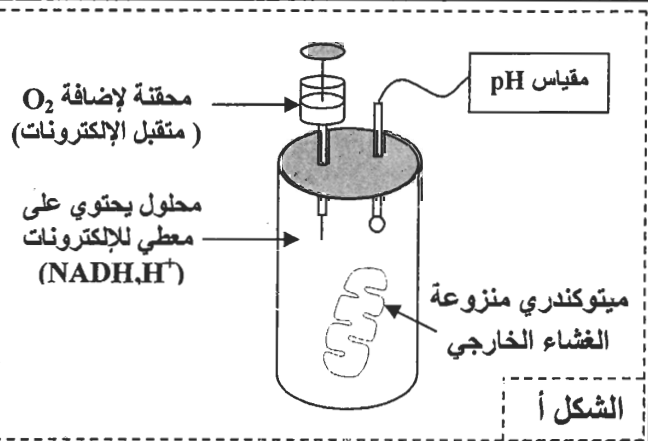
الوثيقة 1

1. صف (ي) معطيات الوثيقة 1، ثم استنتج (ي) العلاقة بين استهلاك ثنائي الأوكسجين وإنتاج ATP على مستوى الميتوكوندري. (1 ن)

- التجربة الثانية: بعد عزل ميتوكوندريات من خلايا حية، تمت إزالة الأغشية الخارجية لهذه العضيات، ثم وضعت في محلول خال من ثنائي الأوكسجين يحتوي على معطي للإلكترونات ($NADH, H^+$)، بعد ذلك تم تتبّع تغير تركيز H^+ في المحلول قبل وبعد إضافة ثنائي الأوكسجين. تعطي الوثيقة 2 ظروف ونتائج هذه التجربة.



الشكل ب

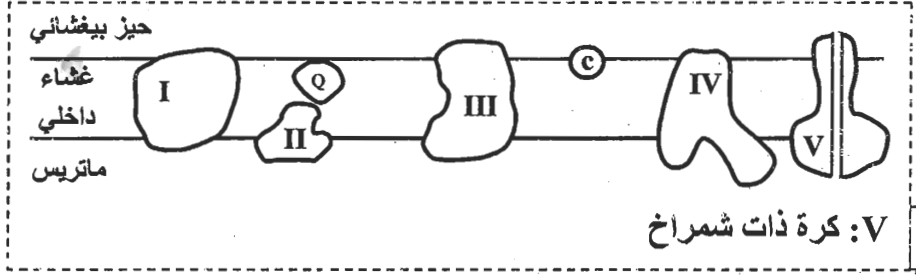


الشكل أ

الوثيقة 2

2. اعتمادا على معطيات الوثيقة 2 وعلى مكتسباتك، صف (ي) تطور تركيز H^+ في المحلول، ثم فسّر (ي) التغير في تركيز H^+ المسجل مباشرة بعد إضافة O_2 . (1 ن)

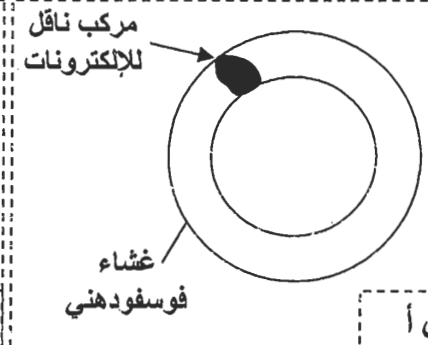
- على مستوى الغشاء الداخلي للميتوكوندري توجد مجموعة من المركبات الناقلة للإلكترونات (المركب I و II و III و IV و Q و C). توضح الوثيقة 3 تموضع هذه المركبات على مستوى الغشاء الداخلي للميتوكوندري.



الوثيقة 3

• التجربة الثالثة : تمت حسب المراحل الآتية:
 - عزل المركبات البروتينية I و III و IV (المبينة في الوثيقة 3) من الغشاء الداخلي للميتوكوندري؛
 - دمج كل مركب على حدة في حويصلات مغلقة شبيهة بالغشاء الداخلي للميتوكوندري ، لكنها خالية من أي بروتين، كما هو مبين في الشكل أ من الوثيقة 4؛
 - وضع كل حويصلة من الحويصلات المحصل عليها في المرحلة السابقة في محلول عالق يحتوي على معطي الإلكترونات الخاص بالمركب المدمج في غشاء الحويصلة.
 يقدم جدول الشكل ب من الوثيقة 4 النتائج المحصل عليها بعد إضافة متقبل الإلكترونات الخاص بكل مركب مدمج.

النتيجة	متقبل الإلكترونات	معطي الإلكترونات	المركب المدمج في الحويصلة	المحلول
اختزال المركب Q	مركب Q مؤكسد	NADH, H ⁺	المركب I	المحلول 1
اختزال المركب C	مركب C مؤكسد	مركب Q مختزل	المركب III	المحلول 2
اختزال O ₂ إلى H ₂ O	O ₂	مركب C مختزل	المركب IV	المحلول 3



الشكل أ الشكل ب

الوثيقة 4

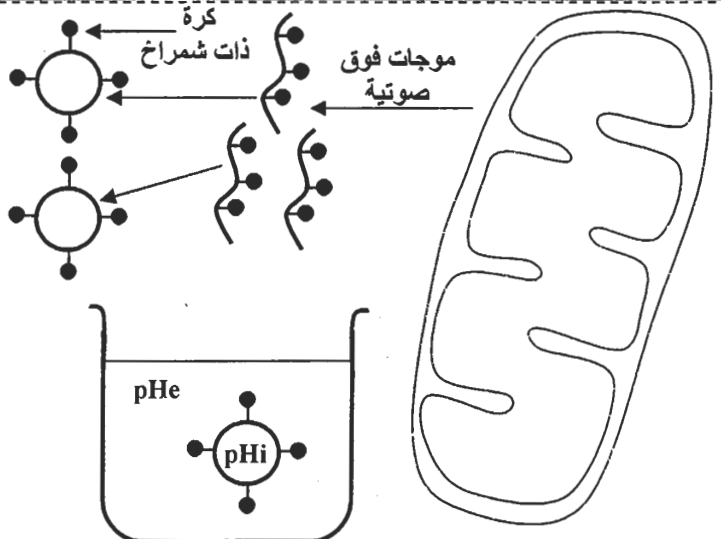
3. اعتمادا على معطيات الوثيقتين 3 و 4 :
 أ - صف (ي) التفاعلات التي حدثت على مستوى المحاليل 1 و 2 و 3. (0.75 ن)
 ب- استنتج (ي) دور المركبات البروتينية I و III و IV في تفاعلات استهلاك ثنائي الأوكسجين على مستوى الميتوكوندري. (0.5 ن)

• التجربة الرابعة : نُضع ميتوكوندريات معزولة لتأثير موجات فوق صوتية قصد تقطيع أغشيتها الداخلية وتكوين حويصلات مغلقة تحمل كرات ذات شمراخ موجهة نحو الخارج (الشكل أ من الوثيقة 5). توضع هذه الحويصلات في محاليل مختلفة من حيث pH وتحتوي على Pi و ADP . يبين جدول الشكل ب من الوثيقة 5 الظروف التجريبية والنتائج المحصل عليها.

www.9alami.info

الظروف التجريبية	pHi = pHe	pHi > pHe	pHi < pHe
النتيجة	عدم تركيب ATP	عدم تركيب ATP	تركيب ATP

الشكل ب



الشكل أ

الوثيقة 5

4. باستغلالك للوثيقة 5، حدد(ي) الشرط الضروري لتكوين ATP على مستوى الميتوكوندري. علل(ي) إجابتك. (1 ن)
5. اعتمادا على ما سبق، بين(ي) العلاقة بين تفاعلات استهلاك ثنائي الأوكسجين وتركيب ATP على مستوى الميتوكوندري. (0.75 ن)

التمرين الثاني (5 نقط)

لوقوف على أصل طفرة وآلية انتقال حليل طافر عند نوعين من الكائنات الحية، نقدم نتائج الدراسات الآتية:

I- لتحديد أصل مقاومة سلالة من البكتيريا Pa (*Pseudomonas aeruginosa*) لنوع من المضادات الحيوية يدعى Macrolides، نقترح استثمار المعطيات الآتية:

• بعد تسرب جزيئات Macrolides داخل البكتيريا ترتبط هذه الجزيئات مع الريبوزومات، مما يكبح تركيب بعض البروتينات الضرورية لتكاثر Pa. يمثل جدول الوثيقة 1 تركيز المضادات الحيوية من صنف Macrolides بوحدات اصطلاحية (U.A) داخل وخارج بكتيريا تنتمي إلى سلالتين من Pa : سلالة متوحشة و سلالة طافرة وضعنا في وسط يحتوي على نفس الكمية من هذه المضادات الحيوية.

• تتوفر البكتيريا Pa على بروتين غشائي يدعى MexAB-OprM يلعب دور مضخة تطرح جزيئات Macrolides خارج البكتيريا المعنية. يقدم جدول الوثيقة 2 تركيز هذا البروتين عند السلالتين المدروستين.

السلالة	السلالة	السلالة	السلالة	
الطافرة	المتوحشة	الطافرة	المتوحشة	
		4	17	تركيز Macrolides داخل البكتيريا بـ U.A
		16	3	تركيز Macrolides خارج البكتيريا بـ U.A
مرتفع	منخفض	عدد مضخات MexAB-OprM		الوثيقة 1
				الوثيقة 2

1. من خلال مقارنة نتائج المبينة في الوثيقتين 1 و 2 ، فسر(ي) المظهر المقاوم للسلالة الطافرة. (1 ن)

• تتوفر البكتيريا Pa على بروتين يدعى Mex.R يحد من تركيب كمية كبيرة من مضخات MexAB-OprM. تمثل الوثيقة 3 جزءا من الخيط غير المستنسخ للمورثة المتحكمة في تركيب بروتين Mex.R عند السلالتين المدروستين ، وتمثل الوثيقة 4 مستخرجا من الرمز الوراثي.

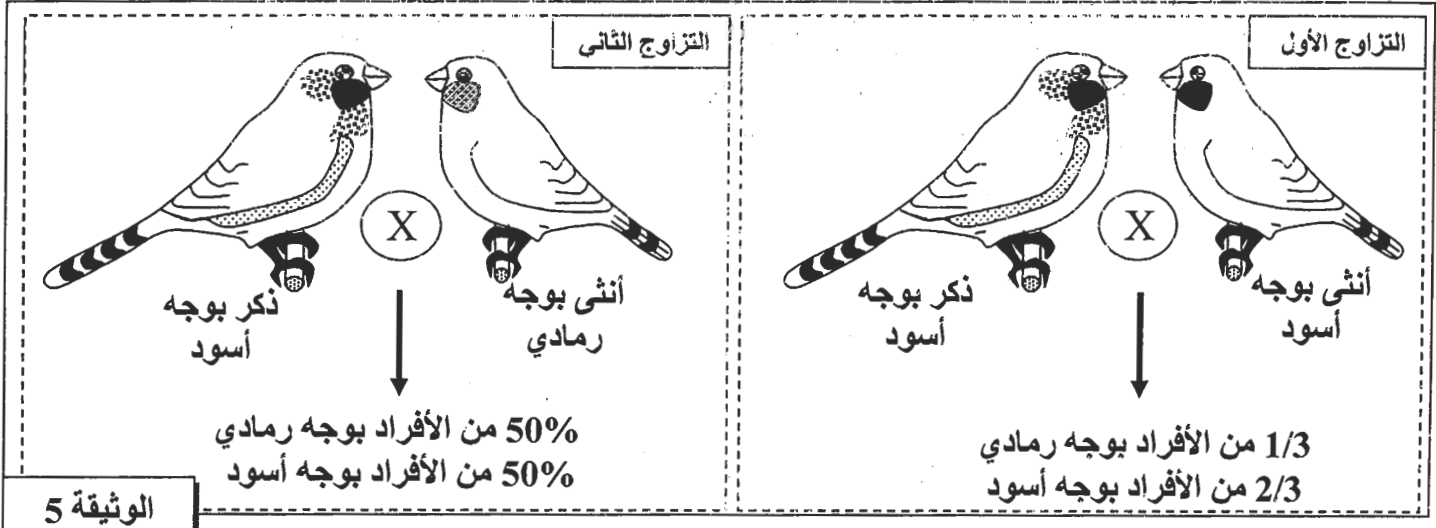
منحى القراءة									
107	108	109	110	111	112	113	114	115	
CAT	GCG	GAA	GCC	ATC	ATG	TCA	TGC	GTG	السلالة المتوحشة
CAT	GCG	GAA	GCC	ATC	ATG	TCA	TGA	GTG	السلالة الطافرة
									الوثيقة 3

GUG	UGC	CAU	GCG	ACU	UCA	GAG	AUG	UGA	AUC	الوحدات
GUA	UGU	CAC	GCC	ACC	UCG	GAA		UAG	AUA	الرمزية
Val	Cys	His	Ala	Thr	Ser	Glu	Met	بدون معنى	Ile	الأحماض الأمينية
										الوثيقة 4

2. اعتمادا على معطيات الوثيقتين 3 و 4 ، حدد(ي) متتالية الأحماض الأمينية المطابقة لجزء المورثة المتحكمة في تركيب بروتين Mex.R عند كل من السلالة المتوحشة والسلالة الطافرة ، ثم فسر(ي) الأصل الوراثي للمظهر المقاوم عند السلالة الطافرة. (1.5 ن)

II - لفهم كيفية انتقال حليل طافر عند طيور الزرد Diamant Mandarin، أنجز مربى طيور تزاوجين بين أفراد تختلف من حيث صفة لون الوجه:

- أفراد بمظهر خارجي متوحش لهم وجه رمادي (B أو b)؛
 - أفراد بمظهر خارجي طافر لهم وجه أسود (B أو b).
 تمتش الوثيقة 5 النتائج المحصلة بالنسبة لكل تزاوج.



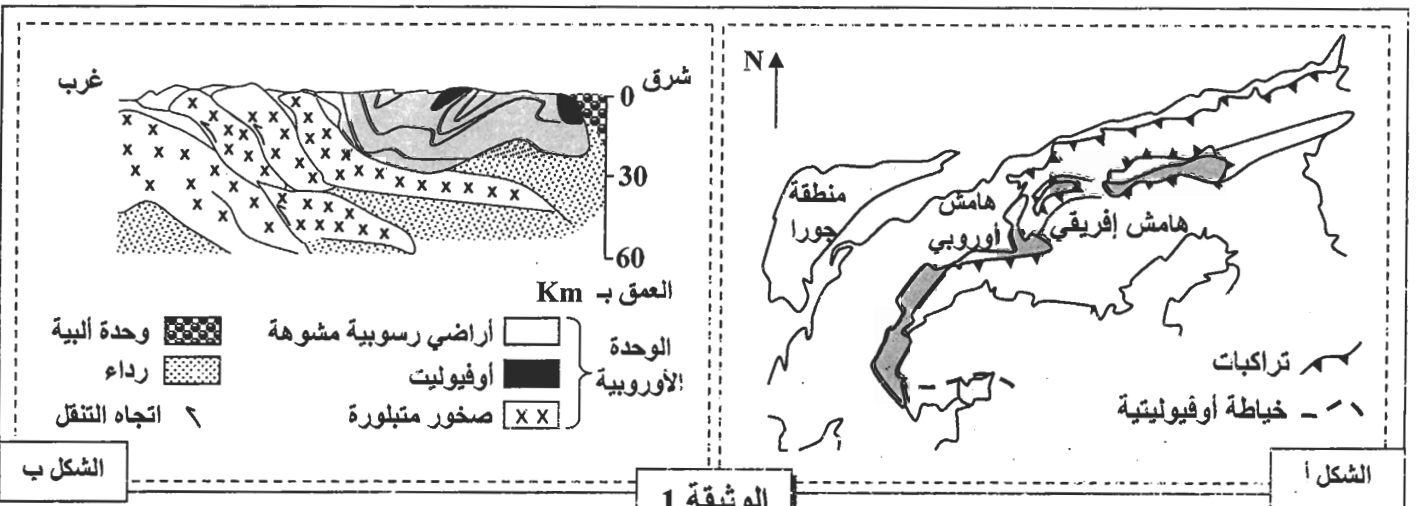
ملاحظة: يعطي التزاوج العكسي للتزاوج الأول نفس النتائج.

3. أ- اعتمادا على نتائج التزاوج الأول، حدد (ي) كيفية انتقال صفة لون الوجه عند هذه الطيور. (1ن)
 ب- استنتج (ي) النمط الوراثي الممكن لكل من الطيور ذات الوجه الرمادي والطيور ذات الوجه الأسود. (0.5ن)
 4. أنجز (ي) تفسيراً صغياً لكل من التزاوج الأول والتزاوج الثاني. (1ن)

التمرين الثالث (5 نقط)

لدراسة بعض الظواهر الجيولوجية المؤدية إلى تشكل السلاسل الجبلية، نقترح استغلال المعطيات الآتية:

- يمثل الشكل أ من الوثيقة 1 خريطة جيولوجية لمنطقة في جبال الألب الفرنسية - الإيطالية، ويمثل الشكل ب من نفس الوثيقة مقطعا جيولوجيا لجبال الألب الممثلة في الشكل أ.



1. استخراج (ي) من الوثيقة 1 المؤشرات الدالة على اختفاء محيط قديم وتجابه الصفيحتين الإفريقية والأوروبية. (0.75ن)

• بجوار صخور المركب الأوفيويتي المتواجدة بمنطقة جبال الألب المدروسة، يلاحظ استسطاح مجموعة من الصخور المنحولة من قبيل الميتاكابرو، الإكلوجيت والشيست. لمعرفة أصل وظروف تشكل هذه

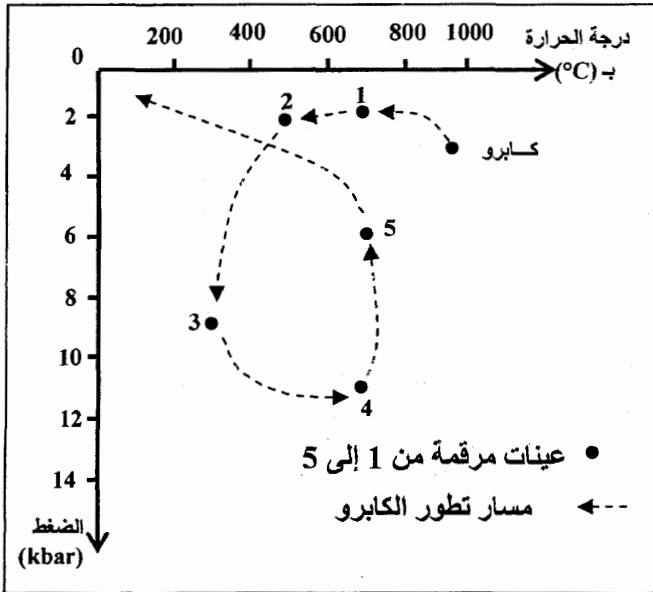
الصخور المتحولة، أنجزت دراسة عيدانية على خمس عينات صخرية أخذت من المنطقة المدروسة. يلخص جدول الوثيقة 2 نتائج هذه الدراسة.

2. قارن (ي) التركيب العيداني للعينتين الصخريتين : (1.5ن)

عينة 5	عينة 4	عينة 3	عينة 2	عينة 1	
-	-	+	+	+	بيروكسين
+	+	+	+	+	بلاجيوكلاز
+	-	+	+	-	إيدوت
-	+	+	-	-	كلوكوفان
-	+	-	-	-	بجادي
+	-	-	-	+	هورنبلاند
-	+	-	-	-	جادبيت

الوثيقة 2

• لاحظ بعض الجيولوجيين تشابها كبيرا في التركيب الكيميائي لكل من صخرة الكابرو والعينات الصخرية المدروسة. تمثل الوثيقة 3 مسار تطور صخرة الكابرو حسب ظروف الضغط ودرجة الحرارة، كما تبين تموضع هذه العينات الصخرية المدروسة على هذا المسار.



الوثيقة 3

3. أ- حدد (ي) ظروف الضغط ودرجة الحرارة التي يتشكل فيها كل من الكابرو والعينتين الصخريتين 3 و4، ثم استنتج (ي) نمط التحول الذي أدى إلى تشكل كل من العينتين 3 و4. (1.25ن)

ب- اعتمادا على المعطيات السابقة ومكتسباتك، حدد (ي) الظاهرتين الجيولوجيتين المؤديتين إلى تشكل كل من العينتين الصخريتين 3 و4. (0.5ن)

4. انطلاقا من إجاباتك السابقة، حدد (ي) مراحل تشكل سلاسل جبال الألب الفرنسية- الإيطالية. (1ن)