

المؤسسة	م.م عين الشفاء	الموسم الدراسي	2016-2015
الاستاذ	إقبال أو عيسى	المستوى	الثاني
اسم المتعلم		المادة	الرياضيات





الإختبار الثاني – الدورة الأولى

النقطة المحصل عليها
ملاحظات الأستاذ

1 – أكمل ملاً الجدول : (2نقط)

.....وحدات و عشراتان و مئة	$100+20+6$	126
.....وحدات و عشراتات و 3 مئات	$300+30+3$
.....وحدات و مئتان	$200+6$
4 وحدات و 5 عشراتات و 6 مئات	$....+.....+.....$
8 وحدات و و مئات	$700+.....+.....$	728

2 أكتب مكان النقط اسم كل شكل : (2نقط)

			
.....

3 أقرن بوضع الرمز > أو < أو = : (2نقط)

$321.....312$	$251.....200+50+1$	$701.....80$	$400+20+3.....423$	$598.....589$
$276.....267$	$237.....199$	$237.....200+40$	$415.....451$	$300.....299$

4 أقيس طول القطعتين , و أحيط أكبرهما طولاً : (نقطة واحدة)



5 أحسب : (2 نقط)

$67-20=.....$	$83-10 =.....$	$39-19 =$	$20 + 10 =$	$100+20+3 =$
$13-10=.....$	$70-10 =$	$28-20 =.....$	$40 + 20 =$	$50+13=.....$

6 أرسم محاور تماثل الشكل أسفله : (نقطة واحدة)

