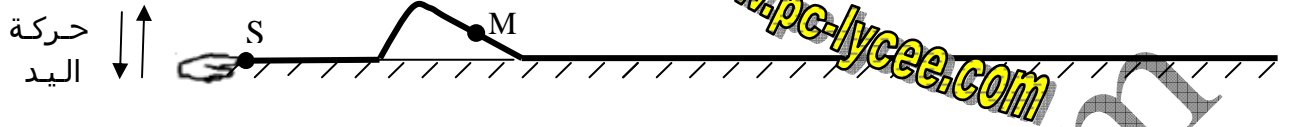


الموضوع 01

نضع حبلا مرنا وغير قابل للامتداد على أرضية أفقية.

نشأ باليد تشويها بإحداث اهتزاز رأسي وسريع على الطرف S كما يبين الشكل 1.

الشكل 1



1. اعتبارات عامة:

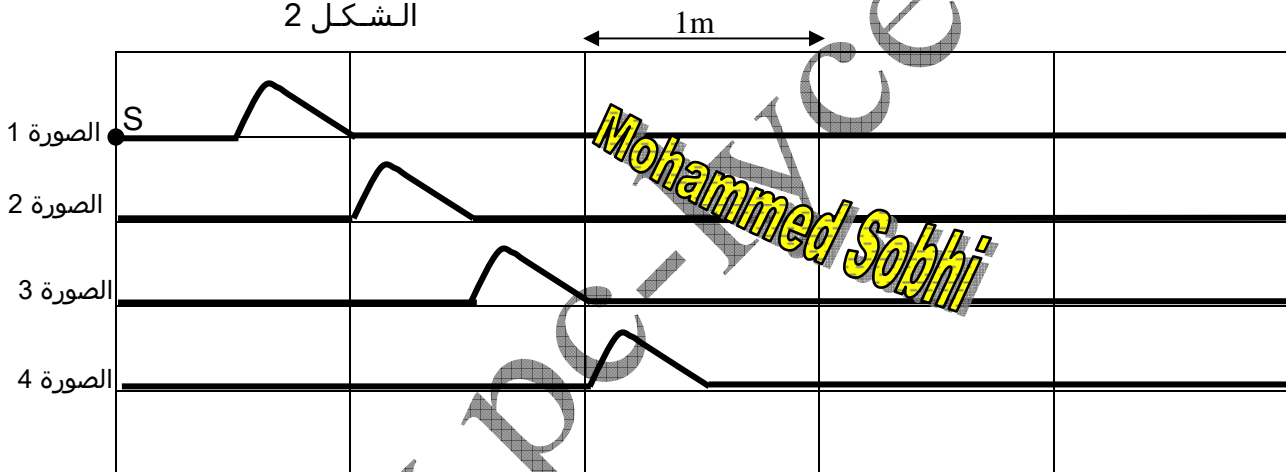
1.1. حدد اتجاه انتشار الموجة واتجاه حركة النقطة M.

1.2. استنتج هل الموجة طولية أم مستعرضة؟

www.9alami.com

2. الدراسة بالتصوير المتتالي:
ندرس انتشار الموجة بطريقة التصوير المتتالي، حيث نأخذ صورا للحبل عند لحظات تفصل بينها مدد زمنية متتالية ومتساوية، ونحصل على الشكل 2. المدة الزمنية الفاصلة بين صورتين متتاليتين هي $\Delta t = 0,25s$.

الشكل 2



2.1. عرف واحسب قيمة سرعة انتشار الموجة.

2.2. ما هي المدة التي تتحرك خلالها نقطة من نقط الحبل؟

3. التطور الزمني للحركة الرأسية لعدة نقط من الحبل:

ندرس تطور الارتفاعات z_A و z_B لنقطتين A و B من الحبل من خلال الشكل 3.

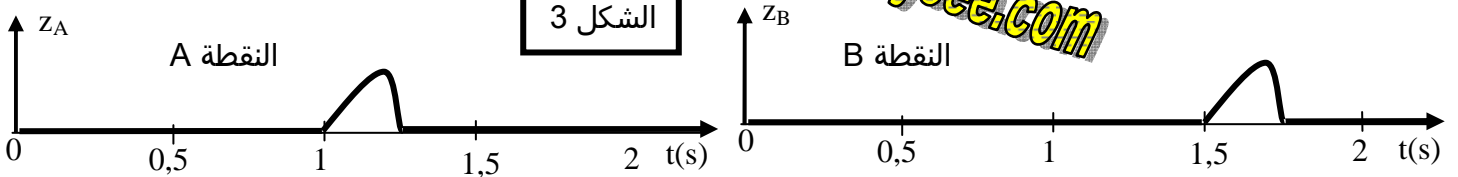
تبدأ النقطة S حركتها في اللحظة $t_0=0s$.

3.1. أي النقطتين A و B يصلها التشويبه الأولى؟ علل.

3.2. أي النقطتين A و B هي الأقرب إلى المنبع S؟

www.9alami.com

الشكل 3



www.9alami.com

3.3. ما هو التأخر الزمني للموجة بين النقطتين A و B ؟

3.4. أحسب المسافة الفاصلة بين النقطتين A و B .

3.5. نقطة أخرى C من الحبل تبدأ حركتها عند اللحظة $t_c=0,50s$. حدد موضعها بالنسبة للنقطة A .

3.6. باستعمال السلم (2cm بالنسبة لكل 1m) مثل على شكل مواضع النقط A ، B ، C بالنسبة للمنع S .

4. تأثير بعض العوامل على سرعة الموجة :

تعطي الأشكال التالية تطور الانتقال الرأسي لنقطة K من الحبل توجد على بعد المسافة $d=SK$ من المنع S .
توافق اللحظة $t_0=0$ بداية حركة S .

الشروط التجريبية محددة بالنسبة لكل تجربة.

يجب تبرير كل الأجوبة انطلاقاً من الأشكال الميانية فقط.

على التوالي ، ندرس تأثير :

• شكل التشويه

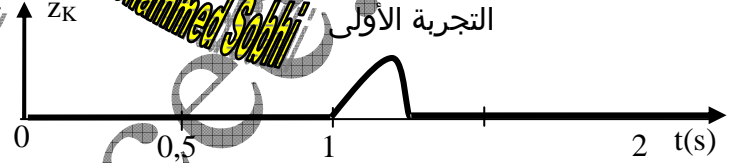
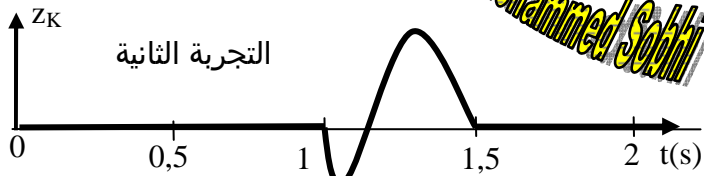
• توتر الحبل

• طبيعة الحبل.

4.1 تأثير شكل التشويه :

نستعمل نفس الحبل ، ونفيس التوتر في التجريبتين الأولى والثانية والممثلتين في الشكل 4.

الشكل 4

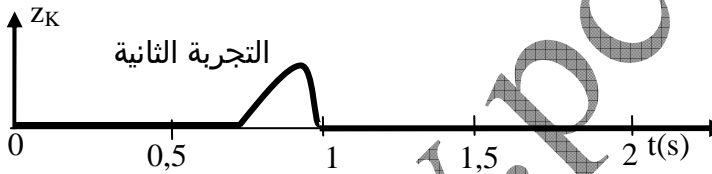


هل يغير شكل التشويه سرعة انتشار الموجة ؟

4.2 تأثير توتر الحبل :

نستعمل في التجريبتين نفس الحبل ، لكن توتره في التجربة الأولى أقل من توتره في التجربة الثانية.

هل يؤثر توتر الحبل على سرعة الموجة ؟ في حالة الجواب بالإيجاب ، بين علاقة تطور سرعة الموجة بتوتر الحبل.



4.3 تأثير طبيعة الحبل :

تذكير : تساوي الكتلة الطولية μ لحبل خارج كتلته m وطوله L : $\mu = \frac{m}{L}$.

توتر الحبل هو نفسه في التجريبتين ، لكن الكتلة الطولية للحبل في التجربة الأولى أقل منها في التجربة الثانية

هل تؤثر الكتلة الطولية للحبل على سرعة الموجة ؟ بين علاقة تغير سرعة الموجة بتغير الكتلة الطولية للحبل .

