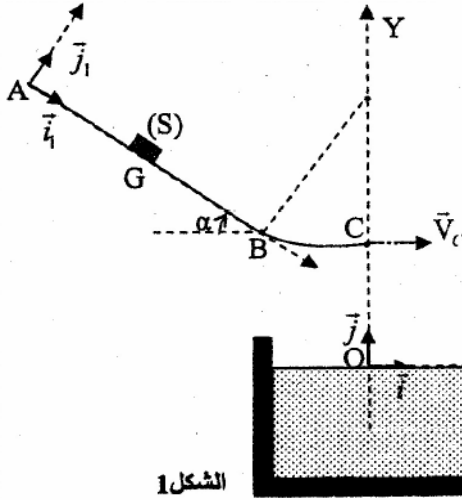


توجد المزلقات في المسابح لتمكين السباحين من الانزلاق والغطس في الماء. نمذج مزلقة مسبح بسكة ABC تتكون من جزء مستقيمي AB مائل بزاوية α بالنسبة للمستوى الأفقي ومن جزء دائري BC، ونمذج السباح بجسم صلب (S) مركز قصوره G وكتلته m (الشكل 1).



المعطيات:

$$m = 70 \text{ kg} , g = 9,8 \text{ m.s}^{-2} , \alpha = 20^\circ , AB = 2,4 \text{ m}$$

1- دراسة الحركة على السكة AB :

ينطلق ، عند اللحظة $t = 0$ ، الجسم (S) من الموضع A ، الذي نعتبره منطبقا مع مركز قصوره G ، بدون سرعة بدئية فينزل بدون احتكاك على السكة AB . (الشكل 1) ندرس حركة G في المعلم الأرضي $\mathcal{R}_1 (A, \vec{i}_1, \vec{j}_1)$ الذي نعتبره غاليليا.

بتطبيق القانون الثاني لنيتون حدد :

1.1- إحدائي التسارع في المعلم $\mathcal{R}_1 (A, \vec{i}_1, \vec{j}_1)$. (0,5 ن)

1.2- سرعة V_B في النقطة B . (0,5 ن)

1.3- الشدة R للقوة التي يطبقها السطح AB على الجسم (S) . (0,5 ن)

ندرس في بقية التمرين حركة G في المعلم الأرضي $\mathcal{R} (O, \vec{i}, \vec{j})$ الذي نعتبره غاليليا. (الشكل 1)

2- دراسة حركة G في الهواء :

يصل الجسم (S) إلى النقطة C بسرعة أفقية منظما $V_C = 4,67 \text{ m.s}^{-1}$ ؛ فيغادرها عند لحظة نعتبرها أصلا جديدا للتواريخ.

يخضع الجسم (S) بالإضافة إلى وزنه إلى تأثير رياح اصطناعية نمذجها بقوة أفقية ثابتة تعبيرها: $\vec{f}_1 = -f_1 \vec{i}$

2.1- أوجد عند لحظة تاريخها t التعبير v_x للمركبة الأفقية لمتجهة السرعة بدلالة m و V_C و f_1 و t . (0,5 ن)

2.2- عند اللحظة $t_D = 0,86 \text{ s}$ ، يصل G إلى النقطة D التي توجد على سطح الماء، حيث تتعدم المركبة الأفقية لسرعته .

أ- احسب f_1 . (0,5 ن)

ب - حدد الارتفاع h للنقطة C عن سطح الماء . (1 ن)

3- دراسة الحركة الرأسية للنقطة G في الماء:

يتابع الجسم (S) حركته في الماء بسرعة رأسية \vec{V} حيث يخضع بالإضافة إلى وزنه إلى :

- قوة احتكاك مائع نمذجها بمتجهة \vec{f} تعبيرها في النظام العالمي للوحدات هو : $\vec{f} = 140 \cdot V^2 \cdot \vec{j}$.

- دافعة أرخميدس \vec{F}_A شدتها : $F_A = 637 \text{ N}$.

نعتبر لحظة دخول الجسم (S) في الماء أصلا جديدا للتواريخ.

3.1- بيّن أن السرعة $V(t)$ للنقطة G تحقق المعادلة التفاضلية التالية : $\frac{dV(t)}{dt} - 2V^2 + 0,7 = 0$. (1 ن)

3.2- أوجد قيمة السرعة الحدية V_e . (0,5 ن)

3.3- بالاعتماد على الجدول أسفله وباستعمال طريقة أولير ، حدد القيمتين a_{i+1} و V_{i+2} . (1 ن)

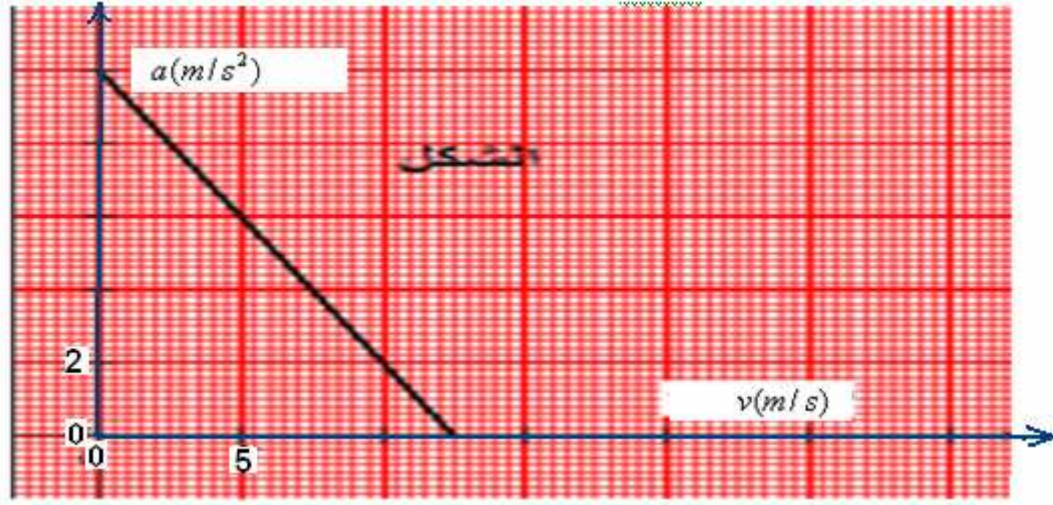
t (s)	V(m.s ⁻¹)	a(m.s ⁻²)
$t_i = 1,8 \cdot 10^{-1}$	-1,90	6,52
$t_{i+1} = 1,95 \cdot 10^{-1}$	-1,80	a_{i+1}
$t_{i+2} = 2,1 \cdot 10^{-1}$	V_{i+2}	5,15

2) التمرين الثاني = السقوط الرأسى لمظلي مع تجهيزه في الهواء:

يسقط مظلي كتلته مع تجهيزه $m = 100 \text{ kg}$ سقوطا شاقوليا انطلاقا من نقطة O بالنسبة لمعلم أرضي بدون سرعة بدئية . يخضع أثناء

سقوطه إلى قوة مقاومة الهواء تعبيرها $f = Kv$. يعطي المبيان أسفله المنحنى الممثل لتغيرات تسارع المظلي بدلالة سرعته v .

- 1- تطبيق القانون الثاني لنيوتن بين أن المعادلة التفاضلية لحركة المظلي تكتب كما يلي $\frac{dv}{dt} = Av + B$ حيث A و B ثابتان يطلب تحديد تعبير كل منهما.
- 2- حدد مبيانياً : أ- قيمة شدة مجال الجاذبية الأرضي في مكان السقوط.
ب- شدة السرعة الحدية للمظلي v_c .
- 3- تميز الحركة السابقة بالمقدار $\frac{K}{m}$ حدد وحدة هذا المقدار واحسب قيمته من المنحنى.
- 4- احسب قيمة الثابتة K .
- 5- مثل كيفياً تغيرات سرعة المظلي بدلالة الزمن .
- 6- ما النظام المتحقق عند اللحظة $t=12,5s$ علل جوابك .



3) التمرين الثالث = سقوط جسم صلب كروي الشكل في الهواء :

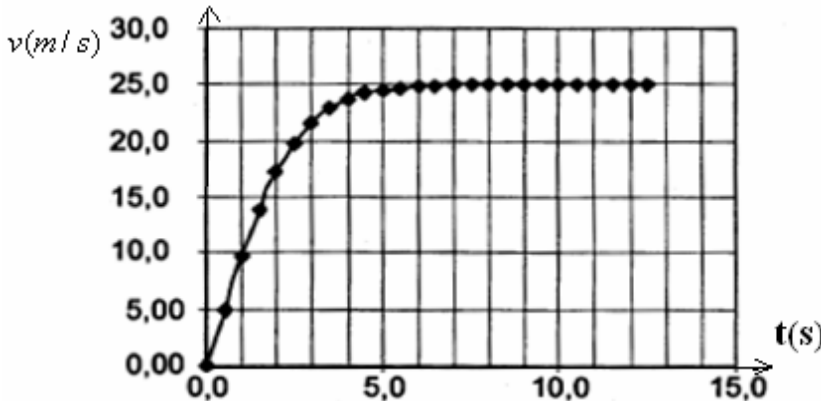
جسم صلب كروي الشكل قطره $d=3cm$ وكتلته $m=13g$ يسقط رأسياً في الهواء انطلاقاً من نقطة O توجد في ارتفاع $h=1500m$ من سطح الأرض بدون سرعة بدئية.

المعطيات : $g = 9,8m/s^2$ ، الكتلة الحجمية للهواء $\rho_{air} = 1,3kg/m^3$ حجم كرة شعاعها r : $V = \frac{4}{3}\pi.r^3$.

- علما أن الجسم خلال سقوطه يخضع للتأثيرات التالية : وزنه \vec{P} ، دافعة أرخميدس \vec{F}_A و قوة الاحتكاك \vec{f} بحيث $f = kv^2$.
- 1- بين أن دافعة أرخميدس مهملة أمام وزن الجسم .
 - 2- بإهمال دافعة أرخميدس :

1-2- بين أن المعادلة التفاضلية لحركة الجسم تكتب على النحو التالي : $\frac{dv}{dt} = A - B.v^2$.

2-2- يعطي الجدول أسفله بعض قيم سرعة الجسم وتسارعه بدلالة الزمن . باعتماد النتائج المحصل عليها باستعمال طريقة أولير حيث قيمة خطوة الحساب المعتمدة $\Delta t = 0,5s$ نعطي المنحنى الممثل لتغيرات سرعة الجسم بدلالة الزمن.



t (s)	v(m.s ⁻¹)	a (m.s ⁻²)
0,00	0,00	9,80
0,50	4,90	9,43
1,00	9,61	8,36
1,50	13,8	6,83
2,00	17,2	a ₄
2,50	v ₅	3,69
3,00	21,6	2,49

- 1-2-2 - أعط قيمة كل من التسارع البدني a_0 والسرعة الحدية للجسم v_c وثابتة الزمن τ المميز للكرة .
- 2-2-2 - أعط تعبير التسارع البدني a_0 والسرعة الحدية للجسم v_c بدلالة A و B .
- 3-2-2 - استنتج قيمة كل من A و B .
- 3-2 - باستعمال طريقة أولير احسب a_4 و v_5 .

4) التمرين الرابع = موضوع باكالوريا مغربية ، مسلك العلوم الرياضية الدورة العادية لسنة 2010 :

فيزياء 3 : (5,75 نقطة) الجزءان الأول و الثاني مستقلان

الجزء الأول (2,75 نقطة) : السقوط الرأسى لجسم صلب

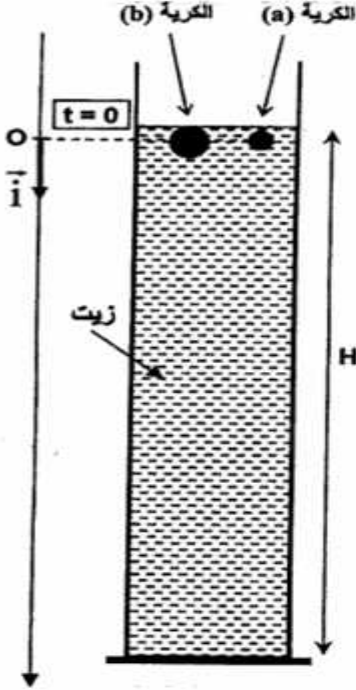
يخضع كل جسم صلب مغمور في مائع إلى دافعة أرخميدس ، وإذا كان هذا الجسم في حركة إزاحة داخل المائع فإنه يخضع كذلك إلى قوة احتكاك مائع.

يهدف هذا التمرين إلى دراسة تطور سرعة كرتين (a) و (b) من الزجاج متجانستين ليس لهما نفس الشعاع، توجدان في حركة إزاحة داخل زيت بسرعة نسبياً صغيرة .

معطيات :	الكتلة الحجمية للزجاج	$\rho = 2600 \text{ kg.m}^{-3}$
	الكتلة الحجمية للزيت	$\rho_0 = 970 \text{ kg.m}^{-3}$
	لزوجة الزيت	$\eta = 8,00.10^{-2} \text{ N.m}^{-2}.s$
	تسارع الثقالة	$g = 9,81 \text{ m.s}^{-2}$
	تعبير حجم كرية شعاعها r	$V = \frac{4}{3}\pi.r^3$

نحرر، عند نفس اللحظة $t = 0$ ، الكرتين (a) و (b) عند سطح الزيت الموجود في أنبوب شفاف أسطواناني رأسي . ارتفاع الزيت في الأنبوب هو $H = 1,00 \text{ m}$ ، الشكل (1) .

1-دراسة حركة الكرية (a) .



ندرس حركة الكرية (a) في المعلم (O, \vec{i}) المرتبط بالأرض . تخضع الكرية أثناء حركتها داخل الزيت إلى :

- دافعة أرخميدس $\vec{F} = -\rho_0.V.g.\vec{i}$
- قوة الاحتكاك المائع $\vec{f} = -6\pi.\eta.r.v.\vec{i}$ حيث v سرعة الكرية
- وزنها $\vec{P} = m.g$

نرمز للزمن المميز لحركة الكرية (a) بـ τ ؛ و نعتبر أن سرعة الكرية تبلغ القيمة الحدية v_L بعد تمام المدة الزمنية 5τ .

1.1- أثبت المعادلة التفاضلية $\frac{dv}{dt} + \frac{v}{\tau} = C$ لحركة الكرية (a)

مع تحديد تعبير الثابتين τ و C . احسب τ ، علما أن $r = 0,25 \text{ cm}$.

1.2- احسب قيمة السرعة الحدية v_L للكرية (a) .

2- دراسة مقارنة لحركتي الكرتين (a) و (b)

شعاع الكرية (b) هو $r' = 2r$.

2.1- حدد ، معلا جوابك ، الكرية التي تستغرق أطول مدة زمنية لتبلغ سرعتها الحدية .

2.2- خلال النظام الانتقالي تقطع :

- الكرية (a) المسافة $d_1 = 5,00 \text{ cm}$ ؛

- الكرية (b) المسافة $d_2 = 80 \text{ cm}$.

نهمل شعاعي الكرتين r و r' أمام ارتفاع الزيت H .

احسب المدة الزمنية الفاصلة بين وصول الكرتين (a) و (b) إلى قعر الأنبوب .

(5) التمرين الخامس = موضوع باكالوريا مغربية : نمذجة قوة احتكاك مانع : شعبة العلوم الرياضية الدورة العادية 2008 :

يهدف هذا التمرين إلى نمذجة قوة الاحتكاك المائع المطبقة من طرف الغليسيرول على جسم صلب وذلك بدراسة حركة السقوط الرأسي لكلمة فلزية كتلتها m و شعاعها r داخل الغليسيرول .

معطيات : - شعاع الكلمة : $r = 1 \text{ cm}$ ؛ حجم الكلمة : $V = \frac{4}{3}\pi.r^3$

- الكتلة الحجمية :

* للغلزال الذي تتكون منه الكلمة : $\rho_1 = 2,7.10^3 \text{ kg.m}^{-3}$

* الغليسيرول : $\rho_2 = 1,26.10^3 \text{ kg.m}^{-3}$

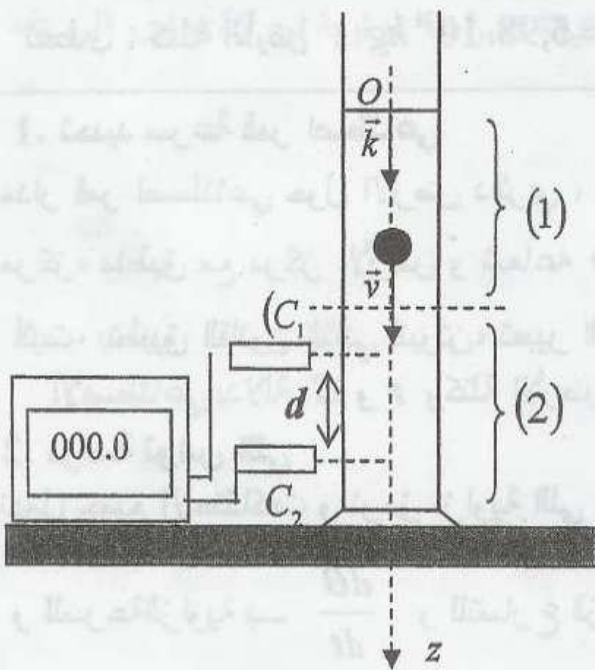
- تسارع الثقالة : $g = 9,81 \text{ m.s}^{-2}$

نذكر أن شدة دافعة أرخميدس المطبقة على الكلمة المغمورة كليا في الغليسيرول هي

$$F = \rho_2.V.g$$

ننمذج قوة الاحتكاك التي تخضع لها الكلمة أثناء السقوط داخل الغليسيرول بـ $\vec{f} = -9\pi.r.v^n.\vec{k}$ ،

حيث n عدد صحيح و v سرعة مركز قصور الكلمة .



عند لحظة نعتبرها أصلا للتواريخ ($t_0 = 0$)، نحرر الكرة بدون سرعة بدئية من نقطة O أصل المحور الرأسي (O, \bar{k}) الموجه نحو الأسفل، فتمت حركتها داخل الغليسيرول الموجود في إناء زجاجي، على مرحلتين:

• (1): مرحلة النظام البدئي بين لحظتين t_0 و t_1 حيث تتزايد سرعة الكرة.

• (2): مرحلة النظام الدائم انطلاقا من اللحظة t_1 حيث تأخذ سرعة الكرة قيمة حدية ثابتة v_f . يمكن الجهاز المكون من ميقت وخليتين (C_1) و (C_2) من قياس المدة الزمنية Δt التي تستغرقها الكرة لقطع المسافة $d = 20 \text{ cm}$ خلال المرحلة (2) (انظر الشكل جانبه).

1. حدد قيمة السرعة الحدية v_f علما أن $\Delta t = 956 \text{ ms}$.

2. بتطبيق القانون الثاني لنيوتن، بين أن المعادلة التفاضلية التي تحققها السرعة v لمركز قصور الكرة داخل السائل تكتب على الشكل:

$$\frac{dv}{dt} + A.v^n = B \quad \text{مع} \quad A = \frac{27}{4.\rho_1.r^2} \quad \text{و} \quad B = g \left(\frac{\rho_1 - \rho_2}{\rho_1} \right)$$

3. أوجد، انطلاقا من المعادلة التفاضلية، تعبير v_f^n بدلالة ρ_1 و ρ_2 و r و g .

4. استنتج العدد n .

(6) لتمرين السادس = سقوط قطرة ماء في الهواء:

قطرة ماء نقرضها كروية الشكل ذات شعاع R تسقط رأسيًا في الهواء بدون سرعة بدئية، وتخضع خلال حركتها إلى قوة احتكاك \vec{f} معاكسة لسرعتها \vec{v} و ذات قيمة $f = k.v$ ، حيث k ثابتة. المعطيات:

الكتلة الحجمية للماء: $\rho = 1000 \text{ kg/m}^3$.

الكتلة الحجمية للهواء: $\rho_{\text{air}} = 1.3 \text{ kg/m}^3$.

1- بين أن دافعة أرخميدس \vec{F}_A مهمله أمام وزن القطرة \vec{P} يعطى: $g = 9.8 \text{ m/s}^2$.

2- أوجد المعادلة التفاضلية للحركة و اكتبها على الشكل: $\frac{dv}{dt} + Av = B$ حيث a و b ثابتان.

3- ما هو الشرط اللازم لبلوغ السرعة الحدية؟

4- أعط تعبير السرعة الحدية v_f بدلالة m ، g ، k .

5- تحقق أن: $v = v_f (1 - e^{-\frac{k}{m}t})$ هو حل للمعادلة التفاضلية السابقة.

6- أوجد قيمة الثابتة k ، علما أن: $v_f = 7.56 \text{ cm/s}$ ، $R = 25 \mu\text{m}$.

(7) التمرين السابع = نمذجة قوة الاحتكاك المائع

نحرر في لحظة تاريخها $t = 0 \text{ s}$ وبدون سرعة بدئية في مخبر يحتوي على زيت محرك السيارة كتلته الحجمية $\rho = 0.91 \text{ g/cm}^3$ ، كرية كتلتها $m = 35 \text{ g}$ وحجمها $V = 33.5 \text{ cm}^3$.

نعطي شدة قوة الاحتكاك المطبقة من طرف السائل على الجسم: $f = K.v$

نستعمل تركيب تجريبي مرتبط بحاسوب لكي يمكننا من تتبع حركة الكرية في السائل فنحصل على المنحنى الممثل لتغيرات سرعة مركز قصور الكرية بدلالة الزمن t أي $v = f(t)$. (الشكل 7)

ندرس حركة الجسم S بالنسبة لمرجع مرتبط بالمختبر الذي نعتبره غاليليا و نأخذ كذلك المحور Oz موجه نحو الأسفل.

1- ارسم على تبيانة متجهات القوى المطبقة على الكرية.

2- بتطبيق القانون الثاني لنيوتن، بين أن المعادلة التفاضلية لحركة الكرية بالنسبة للمرجع المرتبط بالمختبر تكتب على الشكل التالي:

$$\frac{dv}{dt} = A - B.v$$

3- تحقق أن الثابتة $A = 1.29 \text{ m/s}^2$ نعطي $g = 10 \text{ m/s}^2$.

4- باستعمال المبيان، عين قيمة السرعة الحدية واستنتج قيمة الثابتة B وحدد وحدتها.

5- بمعرفة القيمتين السابقتين A و B ، تمكن طريقة أولير من حساب بكيفية تقريبية قيمة سرعة الجسم بدلالة الزمن وذلك باستعمال

$$a_i = A - B \cdot v_i \quad \text{و} \quad v_{i+1} = v_i + a_i \Delta t$$

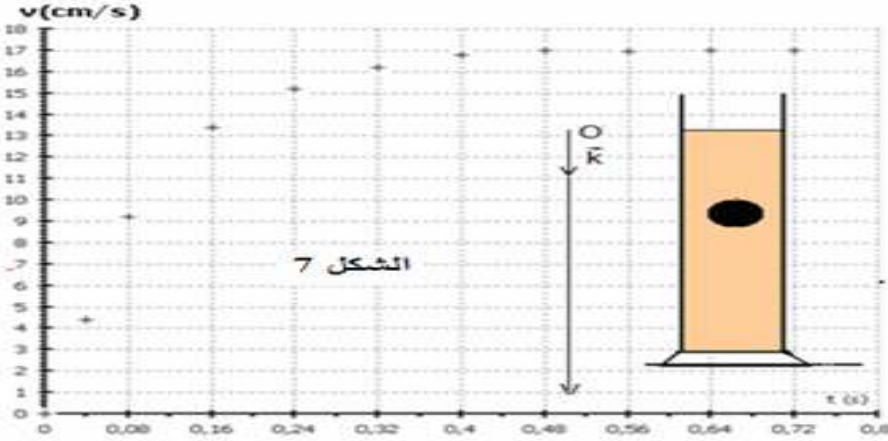
نحصل على النتائج المدونة في الجدول التالي:

i	0	1	2	3	4	5	6	7
t_i (s)	0	0,08	0,16	0,24	0,32	0,40	0,48	0,56
v_i (m/s)		0,102	0,143		0,165	0,167	0,169	0,169
$a_i = dv_i/dt$ (m/s ²)		0,51	0,20		0,03	0,02	0,00	0,00

1-5- ماقيمة الخطوة Δt المستعملة في الحساب

2-5- باستعمال طريقة أولير أتمم الجدول أعلاه

3-5- تحقق من أنه تم نمذجة قوة الاحتكاك بكيفية صحيحة.



8) التمرين الثامن : حركة صعود فقاعة من الهواء في الماء :

في عمق مسبح حيث $z_0 = -3,0m$ أحدث غطاس فقاعة صغيرة من الهواء عند اللحظة $t = 0s$. نقبل أن الفقاعة كروية الشكل .

بدئيا يكون شعاع الفقاعة $r(z_0) = r_0 = 0,50mm$.

درجة حرارة الماء والهواء الموجود في الفقاعة ثابتة : $T_0 = 300K$.

ضغط الماء في حوض المسبح يتغير مع العمق z من خلال العلاقة التالية : $p_{eau}(z) = p_{atm} - \rho g z$:

على سطح الماء $z=0$ الضغط $p_{atm} = 1,0 \cdot 10^5 Pa$

الكثافة الحجمية للماء ، $\rho = 1,0 \cdot 10^3 kg / m^3$

شدة مجال الثقالة $g = 9,8m / s^2$.

ضغط الهواء الموجود في الفقاعة يساوي ضغط الماء في

العمق نفسه أي أن $p_{air}(z) = p_{eau}(z)$.

نعطي ثابتة الغازات الكاملة : $R = 8,314 S.I$.

1 - نفترض أن الهواء الموجود في الفقاعة غاز كامل ، أوجد

تعبير شعاع الفقاعة $r(z)$ بدلالة العمق z .

2 - أحسب كمية مادة الهواء الموجودة في الفقاعة n_{air} .

3 - أحسب شعاع الفقاعة عند وصولها إلى سطح الماء .

نهمل تغير شعاع الفقاعة ، إذا كان التغير أصغر من 10%)

بالقيمة المطلقة) من القيمة البدئية .

هل يمكن إهماله ؟

4 - إذا كانت الكتلة المولية للهواء $M(air) = 29g / mol$ ، أحسب الكتلة m للفقاعة ثم أعط مميزات

المتجهة \vec{P} وزن الفقاعة .

5 - أعط مميزات دافعة أرخميدس \vec{F}_A التي تخضع إليها الفقاعة بدلالة الشعاع r_0 .

6 - تخضع الفقاعة كذلك إلى قوة الاحتكاك المائع وهي تكتب على الشكل التالي : $\vec{f} = -6\pi\eta r_0 \vec{v}$:

بحيث أن $\eta = 1,0 \cdot 10^{-3} Pa \cdot s$ لزوجة الماء و r_0 شعاع الفقاعة و \vec{v} متجهة سرعتها .

6 - 1 مثل على تبيان القوى المطبقة على الفقاعة . (بدون سلم)

6 - 2 أثبت المعادلة التفاضلية التي تحققها سرعة الفقاعة خلال حركتها .

7 - حل المعادلة التفاضلية هو كالتالي : $v(t) = v_l (1 - e^{-t/\tau})$:

باعتبار أن $A + Be^x$ منعدمة بالنسبة للقيم x إذا كانت $A = B = 0$ ، حدد تعابير المقادير التالية :

و v_l و τ باعتبار أن $v(t)$ حلا للمعادلة التفاضلية .

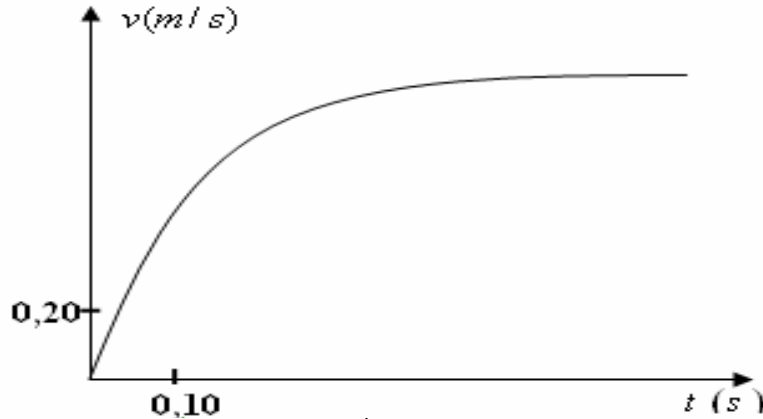
8 - حدد السرعة القصوى للفقاعة .

9) التمرين التاسع: حركة سقوط كرة معدنية في مانع:

تمكن المعادلة التفاضلية $\frac{dx}{dt} + \alpha \cdot x = \beta$ من وصف عدد كبير من الظواهر الفيزيائية المتغيرة خلال الزمن: الشدة، التوتر، السرعة....
هذه المعادلة رياضيا تقبل حلين هما:

$$\textcircled{1} \quad x(t) = \frac{\beta}{\alpha} \cdot (1 - e^{-\alpha \cdot t}) \quad \text{إذا كان } \beta \neq 0 \quad \text{و} \quad \textcircled{2} \quad x(t) = X_0 \cdot e^{-\alpha \cdot t} \quad \text{إذا كان } \beta = 0.$$

تمت دراسة حركة سقوط كرة معدنية، كتلتها m ، في مانع كتلته الحجمية ρ_f بواسطة برمجية خاصة لتتبع تطور سرعة مركز القصور الكرة بدلالة الزمن، فمكنت من الحصول على المنحنى التالي:



1- استنمار معادلة المنحنى:
علما أن المعادلة الرياضية المرفقة بالمنحنى تكتب كما يلي: $v(t) = 1,14 \cdot (1 - e^{-\frac{t}{0,132}})$ ، حيث $v(t)$ معبر عنها ب: $m \cdot s^{-1}$.
وهذه المعادلة توافق الحل رقم (1).

أ- عين قيمة كل من α و النسبة $\frac{\beta}{\alpha}$. أعط، بدون تعليل، وحدة النسبة $\frac{\beta}{\alpha}$.

ب- أثبت أن المعادلة التفاضلية التي تقبل كحل المعادلة $v(t)$ تحقق الكتابة العددية التالية: $\frac{dv}{dt} + 7,58v = 8,64$.

2- دراسة الظاهرة الفيزيائية:

أ- اجرد القوى المطبقة على الكرة، ثم مثلها على شكل.

ب- طبق القانون الثاني لنيوتن على المجموعة المتمثلة في الكرة.

3- الكرة المستعملة في هذه الدراسة فولاذية، كتلتها $m = 32g$ وحجمها V . تسارع الجاذبية في مكان الدراسة: $g = 9,80 m \cdot s^{-2}$.

نعطي تعبير قوة الاحتكاك المطبقة على الكرة: $\vec{f} = -k \cdot \vec{v}$.

أ- باستعمال محور رأسي موجه نحو الأسفل، أثبت أن المعادلة التفاضلية المتعلقة بالمقدار المتغير $v(t)$ تحقق: $\frac{dv}{dt} + \frac{k}{m}v = \left(1 - \frac{\rho_f \cdot V}{m}\right) \cdot g$.

ب- استنتج التعبير الحرفي للمعاملين α و β في المعادلة (1).

ج- ما قيمة المعامل β إذا كانت دافعة أرخميدس مهمة؟ باستعمال المعادلة في السؤال 1- ب، بين أن هذه القوة يجب أخذها بعين الاعتبار.

(11) التمرين العاشر: سقوط كرة معدنية في مانع:

لدراسة حركة سقوط كرة معدنية في ماء سكري بحيث تترك الكرة، المغمورة كليا في الماء، بدون سرعة بدنية لتسقط رأسيا. تم تصوير الحركة بواسطة كاميرا رقمية ثم معالجة الصورة بواسطة برنامج مكن من تحديد مواضع مركز قصورها في لحظات مختلفة. التسجيل

أظهر أن الكرة تبلغ في فترة وجيزة السرعة الحدية $v_\ell = 0,8 m/s$.

1- أجرد القوى المطبقة على الكرة.

2- نعتبر أن شدة قوة الاحتكاك التي يطبقها الماء السكري على الكرة تتناسب مع السرعة v : $f = -kv$.

1-2- بتطبيق القانون الثاني لنيوتن أوجد المعادلة التفاضلية للحركة. بين أن هذه المعادلة يمكن كتابتها على الشكل: $\frac{dv}{dt} = A - B \cdot v$ حيث

A و B ثابتين.

2-2- أعط تعبير كل من A و B بدلالة المعطيات.

3-2- احسب قيمة الثابتة A وحدد وحدة قياسها.

3- أوجد تعبير السرعة الحدية التي اكتسبها الكرة. و استنتج قيمة الثابتة B.

4- بين أن: $v_y = v_\ell + C \cdot e^{-\alpha \cdot t}$ حل للمعادلة التفاضلية حدد قيمة C واستنتج تعبير وقيمة τ .

كتلة الكرة: $m = 1,7 \cdot 10^{-2} kg$ حجم الكرة: $V = 2,1 \cdot 10^{-6} m^3$ الكتلة الحجمية للماء السكري $\rho = 1,2 \cdot 10^3 kg \cdot m^{-3}$ $g = 9,8 N/kg$

يقفز مظلي ولوازمه من طائرة توجد على ارتفاع h من سطح الأرض . كتلة المظلي ولوازمه m ونأخذ قيمة شدة مجال الثقالة $g=9,81m/s^2$.

نقبل أن مجموع القوى المطبقة من طرف الهواء على المظلي يمكن نمذجتها بقوة الاحتكاك $f = k.v^2$ بحيث أن $k = 0,78SI$.

1 - انطلاقا من معادلة الأبعاد حدد وحدة الثابتة k في النظام العالمي للوحدات (SI) .

2 - أوجد المعادلة التفاضلية خلال سقوط المظلي ولوازمه باعتبار المحور الرأسي (O, \vec{k}) وموجها نحو الأسفل . نهمل دافعة أرخميدس .

3 - لتحديد تغير السرعة خلال الزمن t نستعمل طريقة أولير حيث نختار خطوة الحساب $\Delta t = 0,5s$.

3 - 1 لتكن v_n السرعة في اللحظة t_n و v_{n+1} السرعة في اللحظة $t_{n+1} = t_n + \Delta t$ ، بين أن المعادلة

التفاضلية السابقة يمكن أن تكتب على الشكل التالي :

$$v_{n+1} = v_n + A - B.v_n^2 \text{ حيث } A = 4,9SI \text{ و } B = 1,95.10^{-3}SI$$

حدد بدقة وحدة الثابتين A و B في النظام العالمي للوحدات .

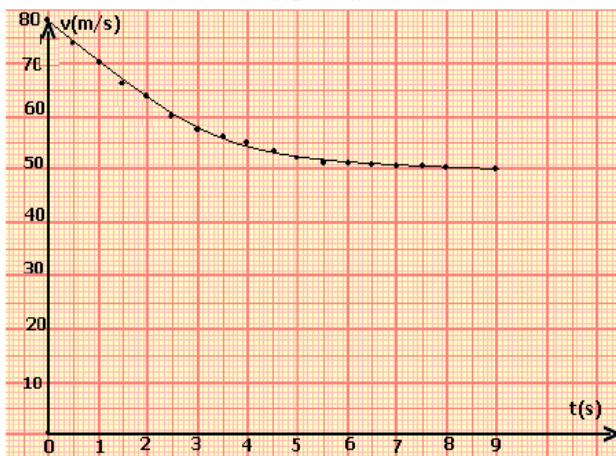
3 - 2 باستعمال المبيان جانبه والذي يمثل تغيرات السرعة v بدلالة الزمن t التي تم حسابها بواسطة

العلاقة السابقة ، عين :

أ - رتبة قدر المدة اللازمة ليصل المظلي ولوازمه إلى السرعة الحدية ،

ب - قيمة السرعة الحدية ، وعبر عنها بالوحدة km/h

ج - قيمة الزمن المميز للحركة .

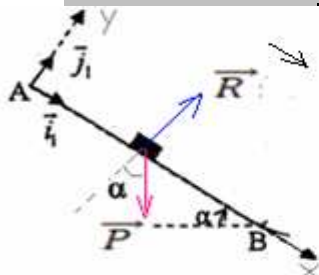


SBIRO Abdelkrim Lycée Agricole oulad-taima région d'Agadir Maroc

Mail sbiabdou@yahoo.fr

pour toute observation contactez moi

1) تصحيح التمرين الأول : موضوع باكالوريا مغربية : علوم فيزيائية الدورة العادية 2010



1- المجموعة المدروسة الجسم (S)

■ جرد وتمثيل القوى :

\vec{P} : وزن الجسم .

\vec{R} : تأثير سطح التماس وهي عمودية على السطح لأن التماس يتم بدون احتكاك .

■ تطبيق القانون الثاني لنيوتن : $\vec{P} + \vec{R} + m.\vec{a}_G$

■ اختيار معلم مناسب : نعتبر المعلم $(A, \vec{i}_1, \vec{j}_1)$ نعتبره غاليليا .

بالإسقاط على المحور ox : $+ P \sin \alpha + 0 = m.a_x \Leftrightarrow m.g \sin \alpha = m.a_x \Leftrightarrow a_x = g \cdot \sin \alpha$

بالإسقاط على المحور oy : $- P \cdot \cos \alpha + R = 0 \Leftrightarrow a_y = 0$ لأنه لا حركة للجسم حسب oy .

1-2 بتطبيق العلاقة المستقلة عن الزمن بين O و B : $v_B^2 - v_O^2 = 2.a_x.(x_B - x_O)$ أي $v_B^2 = 2.a_x.AB$ لأن $v_O = 0$

ومنه : $v_B = \sqrt{2.a_x.AB} = \sqrt{2g(\sin 20) \times 2,4} = 4m/s$

1-3 $R = P \cdot \cos \alpha = mg \cos 20 = 70 \times 9,8 \cdot \cos 20 = 644,6N$



2-1) المجموعة المدروسة : الجسم S .

- جرد القوى : \vec{P} : وزن الجسم .

\vec{f}_1 : تأثير الرياح الاصطناعية .

- تطبيق القانون الثاني لنيوتن : $\vec{P} + \vec{f}_1 = m.\vec{a}_G$

(1)

بالإسقاط (1) على ox : $0 - f_1 = m.a_x \Leftrightarrow a_x = -\frac{f_1}{m}$ أي ثابتة $\frac{dv_x}{dt} = \frac{f_1}{m}$ $\Leftrightarrow v_x = -\frac{f_1}{m}t + k$ وبما أن عند اللحظة

$$v_x = -\frac{f_1}{m}t + v_C$$

$t=0$ فإن الثابتة $k = v_C$ وبالتالي :


$$f_1 = \frac{m \cdot v_c}{t_c} = \frac{70 \times 4,67}{0,86} \approx 380N \Leftrightarrow 0 = -\frac{f_1}{m} t_c + v_c \Leftrightarrow t=t_0 \text{ عند اللحظة } v_x \text{ تنعدم D في النقطة}$$

ب- بإسقاط (1) المحور oy: $P+0 = m \cdot a_y$ أي ثابتة $a_y = -g$ $\frac{dv_y}{dt} = -g$ $v_y = -gt + k'$ وبما أن عند

$$\text{اللحظة } t=0, v_y = 0, \text{ فإن الثابتة } k' = 0 \text{ وبالتالي: } v_y = -gt \text{ أي: } \frac{dy}{dt} = -gt \text{ ومنه: } y = -\frac{1}{2}gt^2 + k''$$

باستعمال الشروط البدئية: عند $t=0$ لدينا $y=h \Leftrightarrow k''=h$ وبالتالي: $y = -\frac{1}{2}gt^2 + h$.

$$\text{عند وصول الجسم للنقطة D: } y=0 \text{ أي: } 0 = -\frac{1}{2}gt_D^2 + h \Leftrightarrow h = \frac{1}{2}gt_D^2 = \frac{1}{2} \times 9,9 \times (0,86)^2 = 3,62m$$



3-1 المجموعة المدروسة: الجسم S
جهد القوى: يخضع الجسم S للقوى التالية:

$$\vec{P} = -m \cdot g \cdot \vec{j} \text{ وزنه } \vec{P}$$

$$\vec{F}_A = 637 \vec{j} \text{ دافعة أرخميدس } \vec{F}_A$$

$$\vec{f} = 140v^2 \vec{j} \text{ قوة الاحتكاك: } \vec{f}$$

$$\vec{P} + \vec{F}_A + \vec{f} = m \cdot \vec{a}_G \text{ بتطبيق القانون الثاني لنيوتن}$$

$$\text{بالإسقاط على المحور oy: } -P + F_A + f = m \cdot a \text{ أي: } -mg + F_A + 140 \cdot v^2 = m \cdot \frac{dv}{dt}$$

$$\frac{dv}{dt} - 2v^2 + 0,7 = 0 \Leftrightarrow 70 \frac{dv}{dt} - 140 \cdot v^2 + 49 = 0 \Leftrightarrow -70 \times 9,8 + 637 + 140 \cdot v^2 = 70 \frac{dv}{dt} \Leftrightarrow$$

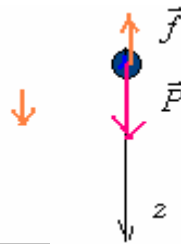
3-2 نحصل على السرعة الحدية عندما يتحقق النظام الدائم بحيث تصبح $\frac{dv}{dt} = 0 \Leftrightarrow v = v_c = \text{ثابتة}$

$$v_c = \sqrt{\frac{0,7}{2}} = 0,59m/s \Leftrightarrow \frac{dv}{dt} = 2v_c^2 - 0,7 = 0$$

$$-3.3 \text{ طريقة أولير: } a_{i+1} = 2V_{i+1}^2 - 0,7 = 2 \cdot (1,80)^2 - 0,7 = 5,78m/s^2$$

$$V_{i+2} = V_{i+1} + a_{i+1}(t_{i+2} - t_{i+1}) = -1,80 + 5,78(0,21 - 0,195) = -1,71m/s$$

(2) تصحيح التمرين الثاني سقوط مظلي في الهواء:



المجموعة المدروسة -المظلي وتجهيزه-

جهد وتمثيل القوى: \vec{P} : وزن المجموعة. \vec{f} : مقاومة الهواء.

$$\vec{f} + \vec{P} = m \cdot \vec{a}_G \text{ تطبيق القانون الثاني لنيوتن}$$

$$\text{الاسقاط على المحور } (O, z): P - f = m \cdot \frac{dv_z}{dt}$$

$$\text{أي: } m \cdot g - k \cdot v = m \cdot \frac{dv}{dt} \Leftrightarrow \text{المعادلة التفاضلية للحركة}$$

$$\frac{dv}{dt} = Av + B \text{ وهي على الشكل } \frac{dv}{dt} = -\frac{k}{m} \cdot v + g$$

$$\text{ومنه: } B = g \text{ و } A = -\frac{k}{m}$$

2- أميبانيا التسارع دالة تألفية معادلتها على الشكل: $a=A \cdot v+B$ نجد ميبانيا: $B=10m/s^2$ ونعلم أن $B=g$ إذن $g=10m/s^2$

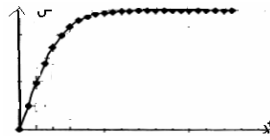
ب- نحصل على السرعة الحدية عندما يتحقق النظام الدائم أي $\frac{dv}{dt} = 0$ أي $a=0$ وهي توافق نقطة تقاطع المستقيم مع محور السرعة v

$$v_c = 12,5m/s$$

$$-3 \text{ بتحديد قيمة المعامل الموجه: } A = \frac{\Delta a}{\Delta v} = \frac{10-6}{0-5} = -0,8 \text{ ومنه } A = -\frac{k}{m} = -0,8 \Leftrightarrow \frac{k}{m} = 0,8$$

4 - نحصل على السرعة الحدية عندما يتحقق النظام الدائم أي $\frac{dv}{dt} = 0$ $\Leftrightarrow -\frac{k}{m} \cdot v_c + g = 0 \Leftrightarrow v_c = \frac{g \cdot m}{k}$ ومنه:

$$k = \frac{g \cdot m}{v_c} = \frac{10 \times 100}{12,5} = 80 \text{ والعلاقة السابقة تصبح: } \frac{dv}{dt} = -0,8 \cdot v + 10$$



6- نعلم ان حل المعادلة التفاضلية : $\frac{dv}{dt} = Av + B$ هي : $v = v_c(1 - e^{-\frac{k}{m}t})$ وعند اللحظة $t=12,5s$ و $\frac{k}{m} = 0,8$

ومنه فإن النظام المتحقق هو النظام الدائم. $v = v_c(1 - e^{-\frac{k}{m}t}) = v_c(1 - e^{-0,8 \times 12,5}) \approx v_c$
 (3) تصحيح التمرين الثالث : سقوط جسم صلب في الهواء.:

1 من خلال تغيير شدة دافعة أرخيمدس : $F_A = \rho.V.g = 1,3 \times \frac{4}{3} \pi.(1,5.10^{-2})^3 \times 9,8 = 1,8.10^{-4} N$

شدة وزن قطرة الماء : $P = m.g = 13.10^{-3} \times 9,8 = 0,13N$

ومنه $P \gg F_A$ يمكن إهمال دافعة أرخيمدس أمام الوزن P. $\frac{P}{F_A} \approx 708 \Leftrightarrow P = 708F_A$

1-2-2 بتطبيق القانون الثاني لنيوتن لدينا $\vec{P} + \vec{f} = m\vec{a}$

بإسقاط العلاقة نجد $P - f = ma$

$$mg - kV^2 = m \frac{dV}{dt}$$

$$\left\{ \begin{array}{l} \frac{dV}{dt} = g - \frac{k}{m}V^2 \\ \frac{dV}{dt} = A - BV^2 \end{array} \right.$$

$$B = \frac{k}{m}$$

$$A = g$$

عند $t=0$ ، $v_0=0$ ومنه $a_0=g$

$$a_0 = 9,8 \text{ m.s}^{-2} \quad v_c = 25 \text{ m.s}^{-1} \quad -2-2$$

$$\tau = \frac{v_c}{a_0} = 2,55 \text{ s} \quad \text{أ-}$$

ب- عند $t=0$ نجد $a_0 = A - BV_0^2 = A$

$$A - BV_c^2 = 0 \Rightarrow V_c = \sqrt{\frac{A}{B}}$$

$$A = 9,8 \text{ m.s}^{-2}$$

$$B = \frac{A}{V_c^2} = 1,57.10^{-2} \text{ m}^{-1} \quad \text{ت-}$$

$$a_4 = A - BV_4^2 = 9,8 - 1,57.10^{-2}(17,2)^2 = 5,15 \text{ m.s}^{-2} \quad -3-2$$

$$V_5 = V_4 + a_4 \Delta t = 17,2 + (5,15 * 0,5) = 19,77 \text{ m.s}^{-1}$$

(4) تصحيح التمرين الرابع = موضوع باكالوريا مغربية، مسلك العلوم الرياضية الدورة العادية لسنة 2010 :

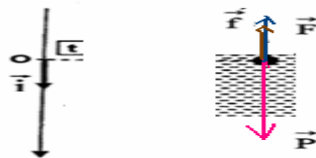
١- * المجموعة المدروسة (الكرة a)

٢- * جرد وتمثيل القوى :

- دافعة أرخيمدس $\vec{F} = -\rho_0.V.g.\vec{i}$

- قوة الاحتكاك المائع $\vec{f} = -6\pi.\eta.r.v.\vec{i}$ حيث v سرعة الكرة ؛

- وزنها $\vec{P} = m.g.\vec{i}$



* تطبيق القانون الثاني لنيوتن : $\vec{P} + \vec{F} + \vec{f} = m\vec{a}$

* الإسقاط على المحور OX : $m.g - \rho_0.V.g - 6\pi.\eta.r.v = m.\frac{dv}{dt}$

حيث $m = \rho.V$ العلاقة السابقة تصبح : $\frac{dv}{dt} + \frac{6\pi.\eta.r.v}{\rho.V} = g.(1 - \frac{\rho_0}{\rho})$ أي $\frac{dv}{dt} + \frac{6\pi.\eta.r.v}{\rho.V} = g.(1 - \frac{\rho_0}{\rho})$

بالمقارنة مع المعادلة : $\frac{dv}{dt} + \frac{9.\eta.v}{2.\rho.r^2} = g.(1 - \frac{\rho_0}{\rho})$ ومنه $\frac{dv}{dt} + \frac{6\pi.\eta.r.v}{\rho.\frac{4}{3}.\pi.r^3} = g.(1 - \frac{\rho_0}{\rho})$

$$\frac{dv}{dt} + \frac{v}{\tau} = C$$

تجد : $C = g.(1 - \frac{\rho_0}{\rho})$ و $\frac{1}{\tau} = \frac{9.\eta}{2.\rho.r^2}$ أي $\tau = \frac{2.\rho.r^2}{9.\eta}$

تطبيق عددي : $\tau = \frac{2.\rho.r^2}{9.\eta} = \frac{2 \times 2600 \times (0,25.10^{-2})^2}{9 \times 8.10^{-2}} = 4,51.10^{-2} \text{ s}$

$$1-2 \quad \text{لدينا : } \frac{dv}{dt} + \frac{v}{\tau} = C \quad \text{عندما يتحقق النظام الدائم ، تصبح السرعة ثابتة : ثابتة } v = v_\ell \quad \text{ومنه : } \frac{dv}{dt} = 0$$

$$\text{أي : } 0 + \frac{v_\ell}{\tau} = C \quad \Leftrightarrow \quad v_\ell = C \cdot \tau \quad \text{مع : } C = 9,81(1 - \frac{970}{2600}) = 6,15 \quad \text{و } \tau = 4,51 \cdot 10^{-2} \text{ s} \quad \Leftrightarrow \quad v_\ell \approx 0,277 \text{ m/s}$$

$$1-2-2 \quad \text{من خلال } v_\ell = C \cdot \tau \quad \text{ومن خلال تعبير } \tau : \tau_a = \frac{2\rho \cdot r^2}{9\eta} = 4,51 \cdot 10^{-2} \text{ s} \quad \text{يتضح انه بالنسبة للكروية b ذات الشعاع } r' = 2r$$

$$\text{وبالتالي ستستغرق الكرية b وقتا أطول لبلوغ السرعة الحدية من الوقت الذي تستغرقه الكرية a.} \quad \tau_b = \frac{2\rho(2r)^2}{9\eta} = 0,1804 \text{ s} > \tau_a$$

2-2-الكرة a قطعت المسافة $d_1 = 5 \text{ cm}$ خلال النظام الانتقالي أي خلال $5\tau_a$ ، وتواصل حركتها بسرعة ثابتة لبلوغ القعر في العمق H-d₁.

الكرة b قطعت المسافة $d_2 = 80 \text{ cm}$ خلال النظام الانتقالي أي خلال $5\tau_b$ ، وتواصل حركتها بسرعة ثابتة لبلوغ القعر في العمق H-d₂.

بما أن سرعة كل منهما في النظام الدائم تصبح ثابتة : $v_\ell(a) = 0,277 \text{ m/s}$ و $v_\ell(b) = 1,109 \text{ m/s}$.

المدة التي تستغرقها الكرية a لبلوغ القعر :

$$t_1 = 5\tau_a + \frac{H - d_1}{v_\ell(a)} = 5 \times 4,51 \cdot 10^{-2} + \frac{1 - 0,05}{0,277} = 3,655 \text{ s}$$

المدة التي تستغرقها الكرية b لبلوغ القعر :

$$t_2 = 5\tau_b + \frac{H - d_2}{v_\ell(b)} = 5 \times 0,1804 + \frac{1 - 0,8}{1,109} = 1,082 \text{ s}$$

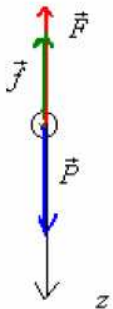
المدة الزمنية الفاصلة بين وصول الكريتين (a) و (b) إلى قعر الأنبوب :

$$\Delta t = t_2 - t_1 \approx 2,57 \text{ s}$$

5) التمرين الخامس = موضوع باكالوريا مغربية : نمذجة قوة احتكاك مانع : شعبة العلوم الرياضية الدورة العادية 2008

$$1 \quad v_\ell = \frac{d}{\Delta t} = \frac{20 \times 10^{-2} \text{ m}}{956 \times 10^{-3} \text{ s}} \approx 0,209 \text{ m/s}$$

2) خلال سقوطها تخضع الكرة للقوى التالية : \vec{P} الوزن . و \vec{F} دافعة أرخميدس . و f : قوة الاحتكاك.



بتطبيق القانون الثاني لنيوتن لدينا :

$$-\vec{f} + \vec{F} + \vec{P} = m \cdot \vec{a}_G \quad \text{بالإسقاط على المحور } oz :$$

$$-f - F + P = ma_x \quad \text{أي :} \quad m \frac{dv}{dt} + 9\pi r \cdot v^n + \rho_2 V \cdot g - mg = 0$$

$$\frac{dv}{dt} + \frac{9\pi r}{m} v^n + \frac{\rho_2 g}{m} V - g = 0$$

$$\text{و } V = \frac{4}{3} \pi r^3 \quad \text{مع :} \quad \frac{dv}{dt} + \frac{9\pi r}{\rho_1 V} v^n = g - \frac{\rho_2 g}{\rho_1}$$

$$\frac{dv}{dt} + A v^n = B \quad \text{على الشكل :} \quad \frac{dv}{dt} + \frac{27 \cdot \dots}{\rho_1 \cdot 4 \cdot r^2} v^n = \frac{g(\rho_2 - \rho_1)}{\rho_1}$$

$$\text{مع :} \quad B = \frac{g(\rho_1 - \rho_2)}{\rho_1} \quad \text{و} \quad A = \frac{27}{4\rho_1 r^2}$$

$$3) \quad \text{لدينا } v_\ell \text{ ثابتة} \quad \Leftrightarrow \quad \frac{dv_\ell}{dt} = 0 \quad \text{وبذلك تصبح العلاقة السابقة كما يلي :} \quad A v_\ell^n = B \quad \Leftrightarrow \quad v_\ell^n = \frac{B}{A} = \frac{4 \cdot r^2 \cdot g(\rho_1 - \rho_2)}{27}$$

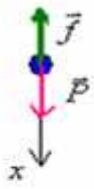
$$4) \quad v_\ell^n = \frac{B}{A} = \frac{4 \cdot r^2 \cdot g(\rho_1 - \rho_2)}{27} = \frac{4 \times (10^{-2})^2 \times 9,81 \times (2,7 - 1,26) \times 10^3}{27} = 0,209$$

$$n \log v_\ell = \log 0,209 \quad \Leftrightarrow \quad \log v_\ell^n = \log 0,209$$

$$n = \frac{\log 0,20928}{\log v_\ell} = \frac{\log 0,209}{\log 0,209} = 1$$

تصحيح التمرين السادس : سقوط قطرة ماء في الهواء

$$1 - 769 \approx \frac{P}{F_{Ar}} = \frac{mg}{\rho_{air} \cdot V \cdot g} = \frac{\rho_{eau} \cdot V \cdot g}{\rho_{air} \cdot V \cdot g} = \frac{\rho_{eau}}{\rho_{air}} = \frac{10^3}{1,3}$$



2) المجموعة المدروسة: < قطرة الماء >.
 جرد القوى: بإهمال دافعة أرخميدس، تخضع القطرة لوزنها P ومقاومة الهواء \vec{f} .
 نعتبر معنما غاليليا (o, \vec{i}) موجها في نفس منحنى الحركة.

بتطبيق القانون الثاني لنيوتن: $\Sigma \vec{F} = m \vec{a}_G$

$$\vec{P} + \vec{f} = m \vec{a}_G$$

بالإسقاط على المحور ox : $P - f = m \cdot a$

$$m \frac{dv}{dt} + k \cdot v = m \cdot g \Leftrightarrow m \cdot g - k \cdot v = m \frac{dv}{dt}$$

ومنه نجد: $\frac{dv}{dt} + \frac{k}{m} \cdot v = g$ وهي المعادلة التفاضلية.
 وهي على الشكل: $\frac{dv_x}{dt} + Av = B$ مع $A = \frac{k}{m}$ و $B = g$

3- من خلال العلاقة السابقة لدينا: $\frac{dv}{dt} = g - \frac{k \cdot v}{m}$
 الشرط اللازم لبلوغ السرعة الحدية هو: $\frac{dv}{dt} = 0$ أي: $g - \frac{k \cdot v_\ell}{m} = 0$

$$v_\ell = \frac{g \cdot m}{k} \quad \text{4- السرعة الحدية لقطرة الماء}$$

5- لنتحقق من كون: $v = v_\ell (1 - e^{-\frac{k}{m}t}) = \frac{mg}{k} (1 - e^{-\frac{k}{m}t})$ حل للمعادلة التفاضلية السابقة.

$$\frac{dv}{dt} + \frac{k}{m} \cdot v = g \quad \text{بالتعويض في المعادلة التفاضلية:} \quad \frac{dv}{dt} = \frac{mg}{k} - \frac{k}{m} \cdot v = g \cdot e^{-\frac{k}{m}t} \quad v = \frac{mg}{k} - \frac{mg}{k} \cdot e^{-\frac{k}{m}t}$$

$$g \cdot e^{-\frac{k}{m}t} + \frac{k}{m} \cdot \left(\frac{mg}{k} - \frac{mg}{k} \cdot e^{-\frac{k}{m}t} \right) = g \Leftrightarrow g \cdot e^{-\frac{k}{m}t} + \frac{k}{m} \cdot \frac{mg}{k} - \frac{k}{m} \cdot \frac{mg}{k} \cdot e^{-\frac{k}{m}t} = g$$

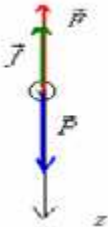
للمعادلة التفاضلية.

6- لنحدد قيمة الثابتة k ، علما أن: $R = 25 \mu m$ ، $v_\ell = 7.56 \text{ cm/s}$
 $V = \frac{4}{3} \pi \cdot r^3 = \frac{4}{3} \pi (25 \cdot 10^{-6})^3 = 6,54 \cdot 10^{-14} \text{ m}^3$

$$k = \frac{m \cdot g}{v_\ell} = \frac{\rho_{eau} \cdot V \cdot g}{v_\ell} = \frac{1000 \times 6,54 \times 10^{-14} \times 9,8}{7,56 \times 10^{-2}} = 8,48 \times 10^{-9} \text{ kg/s} \quad \Leftrightarrow \quad v_\ell = \frac{g \cdot m}{k}$$

تصحيح التمرين السابع: - نمذجة قوة الاحتكاك المانع

1- تخضع الكرة للقوى التالية: \vec{P} الوزن، \vec{F} دافعة أرخميدس، و f قوة الاحتكاك.



بتطبيق القانون الثاني لنيوتن لدينا:

$$-\vec{f} - \vec{F} + \vec{P} = m \vec{a}_G$$

بالإسقاط على المحور oz :

$$-2 \quad \frac{dv}{dt} = -\frac{k}{m} \cdot v + \frac{g(m - \rho \cdot V)}{m} \Leftrightarrow -\frac{k \cdot v}{m} + \frac{-\rho \cdot V \cdot g + mg}{m} = \frac{dv}{dt} \Leftrightarrow -k \cdot v - \rho \cdot V \cdot g + mg = m \cdot \frac{dv}{dt}$$

$$B = \frac{k}{m} \quad \text{و} \quad A = \frac{g(m - \rho \cdot V)}{m} \quad \text{مع} \quad \frac{dv}{dt} = A - B \cdot v$$

$$3 \quad A = \frac{g(m - \rho \cdot V)}{m} = \frac{10 \text{ m} \cdot \text{s}^{-2} (35 \cdot 10^{-3} \text{ kg} - 0,9110^3 \text{ kg} \cdot \text{m}^{-3} \times 33,5 \cdot 10^{-6} \text{ m}^3)}{35 \times 10^{-3} \text{ kg}} = \frac{10 \cdot (35 - 0,91 \times 33,5)}{35} = 1,29 \text{ m} \cdot \text{s}^{-2}$$

$$4 \quad v_\ell = 0,17 \text{ m/s} \quad \text{والسرعة الحدية:} \quad v_\ell = \frac{A}{B} = 0,17 \text{ m/s} \Leftrightarrow \frac{dv}{dt} = A - B \cdot v_\ell = 0$$

-5

i	0	1	2	3	4	5	6	7
t_i (s)	0	0,08	0,16	0,24	0,32	0,40	0,48	0,56
v_i (m/s)	v_0	0,102	0,143	v_3	0,165	0,167	0,169	0,169
$a_i = dv_i/dt$ (m/s ²)	a_0	0,51	0,20	a_3	0,03	0,02	0,00	0,00

1-5- قيمة الخطوة $\Delta t = 0,08 \text{ s}$

2-5- بمعرفة v_0 من خلال الشروط البدئية: $v_0 = 0$ لدينا: $a_0 = A - B \cdot v_0 = A = 1,29 \text{ m/s}$

$a_3 = A - B.v_3 = 1,29 - 7,59 \times 0,159 \approx 0,08 m/s^2$: ولدنيا $v_3 = 0,059 m/s \Leftarrow v_4 = v_3 + 0,08.a_3$
 3-5 المنحنى التجريبي $v = f(t)$ يقارب النظري نتحقق وبالتالي تمت نمذجة قوة الاحتكاك بطريقة صحيحة.

8) تصحيح التمرين الثامن : حركة صعود فقاعة من الهواء في الماء :

أجوبة : 1- لدينا : $PV = nRT$ مع $V = \frac{4}{3}\pi.r^3$: و $P = P_{atm} - \rho.g.z$ وبذلك تصبح العلاقة السابقة كما يلي :

$$r = \sqrt[3]{\frac{3n.R.T}{(P_{atm} - \rho.g.z).4\pi}} \quad \text{ومنه} \quad (P_{atm} - \rho.g.z) \cdot \frac{4}{3}\pi.r^3 = n.R.T$$

$PV = nRT$ - 2 \Leftarrow كمية مادة الهواء في الفقاعة.

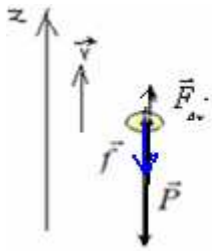
وهي ثابتة. $n = \frac{P.V}{RT} = \frac{(P_{atm} - \rho.g.z) \cdot \frac{4}{3}\pi.r_o^3}{RT} = \frac{[10^5 - 10^3 \times 9,8(-3)] \times 4 \times \pi \times (0,5 \times 10^{-3})^3}{3 \times 8,314 \times 300} = 2,7 \cdot 10^{-8} mol$

3- عند السطح $z=0$ وبذلك العلاقة : $(P_{atm} - \rho.g.z).V = n.R.T$ تصبح $P_{atm} \cdot \frac{4}{3}\pi.r^3 = n.R.T$ ومنه حجم الفقاعة عند السطح :

$$P_{atm} \cdot \frac{4}{3}\pi.r^3 = \sqrt[3]{\frac{3.n.R.T}{4.\pi.P_{atm}}} = \sqrt[3]{\frac{3 \times 2,7 \times 10^{-8} \times 8,314 \times 300}{4 \times \pi \times 10^5}} = 0,54 \cdot 10^{-3} m = 0,54 mm$$

التغير: $\Delta r = 0,54 - 0,5 = 0,04 = 4\%$ $\Leftarrow \Delta r < 10\%$ وبالتالي تغير شعاع الفقاعة مهمل.

$$m = M.n = 29 \times 2,7 \times 10^{-8} = 7,83 \cdot 10^{-7} g \quad \Leftarrow \quad n = \frac{m}{M} \quad \text{4}$$



1-6-6

مميزات \vec{P} :
 - الاتجاه الراسي لمار من G
 - المنحنى نحو الأسفل
 $P = mg$

مميزات \vec{F}_{Ar} :
 - الاتجاه الراسي لمار من G
 - نحو الأعلى
 - دافعة أرخيمس $F_{Ar} = \rho V g = \frac{\rho \cdot 4\pi r_o^3 \cdot g}{3} \approx 5 \cdot 10^{-6} N$

5

2-6 $\vec{P} + \vec{F}_{Ar} + \vec{f} = m\vec{a}$: تطبيق القانون الثاني لنيوتن :

بالإسقاط على المحور oz $-P + F_{Ar} - f = m \cdot \frac{dv}{dt}$ الفقاعة تندفع نحو الأعلى .

$$\frac{dv}{dt} + \frac{6\pi\eta.r_o}{m}.v = g \left(\frac{\rho.V}{m} - 1 \right) \quad \text{أي} \quad \frac{dv}{dt} + \frac{6\pi\eta.r_o}{m}.v = g \left(\frac{\rho.V}{m} - 1 \right) \quad \Leftarrow \quad -mg + \rho.V.g - 6\pi\eta.r_o.v = m \cdot \frac{dv}{dt}$$

نضع $\alpha = \frac{6\pi\eta.r_o}{m}$ و $\beta = g \left(\frac{\rho.V}{m} - 1 \right)$ فنكتب العلاقة السابقة كما يلي : $\frac{dv}{dt} + \alpha.v = \beta$ وهي المعادلة التفاضلية التي تحققها السرعة.

7 حل المعادلة التفاضلية : $v = v_\ell (1 - e^{-\frac{t}{\tau}}) = v_\ell - v_\ell \cdot e^{-\frac{t}{\tau}}$ بالتعويض في المعادلة التفاضلية : $\frac{dv}{dt} = \frac{v_\ell}{\tau} e^{-\frac{t}{\tau}}$

$$\begin{cases} \alpha.v_\ell - \beta = 0 \\ -\alpha + \frac{1}{\tau} = 0 \end{cases} \quad \Leftarrow \quad \begin{cases} v_\ell \cdot e^{-\frac{t}{\tau}} (-\alpha + \frac{1}{\tau}) + \alpha.v_\ell - \beta = 0 \\ \frac{v_\ell}{\tau} \cdot e^{-\frac{t}{\tau}} + \alpha.v_\ell - \alpha.v_\ell \cdot e^{-\frac{t}{\tau}} = \beta \end{cases}$$

$$\begin{cases} v_\ell = \frac{\beta}{\alpha} = \frac{g(\rho.V - m)}{6\pi\eta.r_o} \\ \tau = \frac{1}{\alpha} = \frac{m}{6\pi\eta.r_o} \end{cases} \quad \text{أي} \quad \begin{cases} v_\ell = \frac{\beta}{\alpha} \\ \tau = \frac{1}{\alpha} \end{cases}$$

$$v_\ell = \frac{g(\rho.V - m)}{6\pi\eta.r_o} = \frac{9,8 \times (10^3 \cdot 5,234 \times 10^{-10} - 7,83 \times 10^{-10})}{6 \cdot \pi \cdot 10^{-3} \cdot 0,5 \times 10^{-3}} = 0,54 m/s \quad \text{8}$$

9) تصحيح التمرين التاسع: حركة سقوط كرة معدنية في ماء:

1.أ- بمقارنة المعادلة $v(t) = 1,14 \cdot \left(1 - e^{-\frac{t}{0,132}}\right)$ مع $x(t) = \frac{\beta}{\alpha} \cdot (1 - e^{-\alpha \cdot t})$ نجد: $\alpha = \frac{1}{0,132}$ و $\frac{\beta}{\alpha} = 1,14$

المقدار $\left(1 - e^{-\frac{t}{0,132}}\right)$ في تعبير التسارع ليس له بعد، إذن النسبة $\frac{\beta}{\alpha}$ متجانسة مع السرعة. لها نفس وحدة السرعة أي $m \cdot s^{-1}$.

ب- $v(t) = 1,14 \cdot \left(1 - e^{-\frac{t}{0,132}}\right)$ حل لمعادلة تفاضلية من النوع: $\frac{dx}{dt} + \alpha \cdot x = \beta$

بالمقارنة $v \Leftrightarrow x$ ، أي: $\frac{dv}{dt} + \alpha \cdot v = \beta$ لكن: $\alpha = 7,58$ و $\frac{\beta}{\alpha} = 1,14$ أي $\beta = 1,14\alpha$ إذن: $\beta = 1,14 \times 7,58 = 8,64$

بتعويض α و β بقيمتها نصل إلى العبارة المعطاة $\frac{dv}{dt} + 7,58v = 8,64$

2.أ. المجموعة المدروسة هي الكرة.

القوى المطبقة على الكرة هي:

- $\vec{P} = m \cdot \vec{g}$: الوزن ، متحاده رأسي و اتجاهه نحو الأسفل.

- \vec{F}_{Ar} : دافعة أرخميدس ، متحاده رأسي و اتجاهها نحو الأعلى.

- \vec{f} : قوة الاحتكاك ، متحاده رأسي و اتجاهها نحو الأعلى.

ب. بتطبيق قانون نيوتن الثاني: $\vec{P} + \vec{f} + \vec{F}_{Ar} = m \cdot \vec{a}_G$

بالإسقاط على المحور الرأسي الموجه نحو الأسفل: $P - f - F_{Ar} = m \cdot a$

3.أ. بالتعويض عن f و F_{Ar} في العبارة الأخيرة، نجد:

$$g \cdot (m - \rho \cdot V) - k \cdot v = \frac{dv}{dt} \quad \text{أي} \quad m \cdot g - k \cdot v - \rho \cdot V \cdot g = m \cdot \frac{dv}{dt}$$

و بقسمة طرفي المعادلة على m ينتج:

$$\frac{dv}{dt} + \frac{k}{m} \cdot v = \left(1 - \frac{\rho \cdot V}{m}\right) \cdot g$$

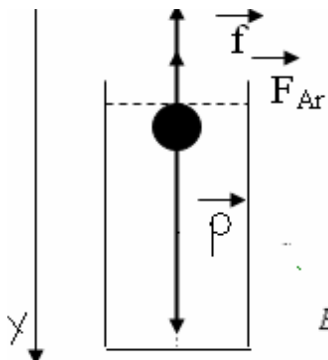
ب. بمطابقة المعادلة السابقة مع المعادلة $\frac{dx}{dt} + \alpha \cdot x = \beta$ نجد: $\alpha = \frac{k}{m}$ و $\beta = \left(1 - \frac{\rho \cdot V}{m}\right) \cdot g$

ج. إذا كنت دافعة أرخميدس مهملة $F_{Ar} = 0$ ، فإن: $\rho \cdot V = 0$ ومنه: $\beta = \left(1 - \frac{0}{m}\right) \cdot g$ أي أن: $\beta = g$ ومنه: $\beta = 9,80 m \cdot s^{-2}$

نلاحظ في المعادلة التفاضلية: $\frac{dv}{dt} + 7,58v = 8,64$ أن $\beta = 8,64 m \cdot s^{-2}$ إذن: $\beta \neq g \neq 9,80 m \cdot s^{-2}$

و عليه فإن يجب أخذ دافعة أرخميدس بعين الاعتبار لان شدتها: $F_{Ar} = m \cdot (g - \beta) = 3,7 \times 10^{-2} N$

11) تصحيح التمرين العاشر: سقوط كرة معدنية في مائع:



$$\vec{P} + \vec{F}_{Ar} + \vec{f} = m \cdot \vec{a} \quad \text{1-2-2} \quad \vec{P}, \vec{F}_{Ar} \text{ و } \vec{f}$$

بالإسقاط على oy : $mg - F_{Ar} - kv = m \frac{dv}{dt}$

$$\begin{cases} A = g - \frac{F_{Ar}}{m} \\ B = \frac{k}{m} \end{cases} \quad \text{2-2}$$

وهي على الشكل: $\frac{dv}{dt} = A - B \cdot v$ و $\frac{dv}{dt} = g - \frac{F_{Ar}}{m} - \frac{k}{m} \cdot v$

$$A = 9,8 - \frac{\rho V g}{m} = 9,8 - 1,45 = 8,35 m/s^2 \quad \text{3-2}$$

3- في النظام الدائم $v = v_\ell$ و $\frac{dv}{dt} = 0 \Leftrightarrow 0 = A - B \cdot v_\ell \Leftrightarrow v_\ell = \frac{A}{B} = 10,4 s^{-1}$ ومنه: $v_\ell = \frac{A}{B} = 0,8$

4- بالتعويض المعادلة التفاضلية $\frac{dv}{dt} = A - B \cdot v$ نجد: $\frac{dv}{dt} = -B \cdot Ce^{-B \cdot t} \Leftrightarrow v = v_\ell + C \cdot e^{-B \cdot t}$

و بما أن عند $t=0$ ، $v=0$: $0 = v_\ell + C$ أي: $A - B \cdot v_\ell = 0$ و $-B \cdot Ce^{-B \cdot t} = A - B \cdot v_\ell - B \cdot Ce^{-B \cdot t}$

و الحل يصبح: $v = v_\ell \cdot (1 - e^{-B \cdot t})$ مع $B = \frac{k}{m}$ ومنه: $\tau = \frac{1}{B} = \frac{m}{k} = 96 ms$

12) تصحيح التمرين الحادي عشر: سقوط كرة معدنية في مائع:

$$f = k.v^2 \quad \text{-1}$$

$$[F] = [m][a] \quad \Leftrightarrow F = m.a \quad \text{لدينا}$$

$$[k] = \frac{[F]}{[v]^2} = \frac{[m][a]}{[v]^2} = \frac{kg.m.s^{-2}}{m^2.s^{-2}} = kg/m \quad \text{ومنه}$$

-2

بتطبيق القانون الثاني لنيوتن لدينا $\bar{P} + \bar{f} = m\bar{a}$

1-2-2

$$mg - kV^2 = m \frac{dV}{dt}$$

بإسقاط العلاقة نجد $P - f = ma$

$$B = \frac{k}{m}$$

$$A = g$$

$$\left\{ \begin{array}{l} \frac{dV}{dt} = g - \frac{k}{m} V^2 \\ \frac{dV}{dt} = A - BV^2 \end{array} \right.$$

$$\bar{P} + \bar{f} = m\bar{a} \quad \text{بإسقاط نجد} \quad P - f = m \frac{dv}{dt} \quad \text{أي} \quad mg - k.v^2 = m \frac{dv}{dt} \quad \text{ومنه} \quad \frac{dv}{dt} = g - \frac{k}{m}.v^2 \quad \text{أي} \quad a_i = g - \frac{k}{m}.v^2$$

$$(1) \quad a_n = g - \frac{k}{m}.v_n^2 \quad \text{من خلال المعادلة التفاضلية:} \quad \text{1-3-3}$$

$$\text{من خلال طريقة أولير لدينا:} \quad v_{n+1} = a_n \Delta t + v_n \quad \Leftrightarrow \quad a_n = \frac{v_{n+1} - v_n}{\Delta t} \quad \text{بالتعويض في (1) نحصل على:}$$

$$v_{n+1} = v_n + g\Delta t - \frac{k}{m} \Delta t.v_n^2 \quad \text{ومنه} \quad v_{n+1} - v_n = g\Delta t - \frac{k}{m} \Delta t.v_n^2 \quad \Leftrightarrow \quad \frac{v_{n+1} - v_n}{\Delta t} = g - \frac{k}{m}.v_n^2$$

$$v_\ell = 50m/s \quad \text{مبيانيا} \quad \frac{k}{m} = \frac{g}{v_\ell^2} \quad \Leftrightarrow \quad v_\ell = \sqrt{\frac{mg}{k}} \quad , \quad A = g.\Delta t = 9,8.0,5 = 4,9m/s \quad , \quad v_{n+1} = v_n + A - B.v_n^2 :$$

$$B = \frac{k}{m} \Delta t = \frac{g}{v_\ell^2} \Delta t = 1,96.10^{-3} s.m^{-1}$$

$$\tau = 1,6s \quad \Leftrightarrow \quad 5\tau \approx 8s \quad \text{ج} \quad v_\ell = 50m/s = 180km/h \quad \text{ب} \quad t \approx 8s \quad \text{أ} \quad \text{2-3}$$

SBIRO Abdelkrim Lycée Agricole oulad-taima région d'Agadir Maroc

Mail sbiabdou@yahoo.fr

pour toute observation contactez moi