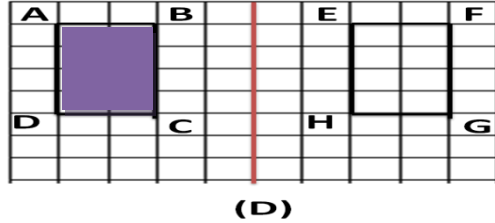
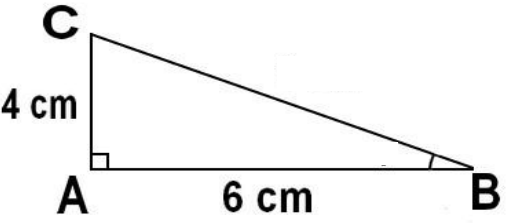
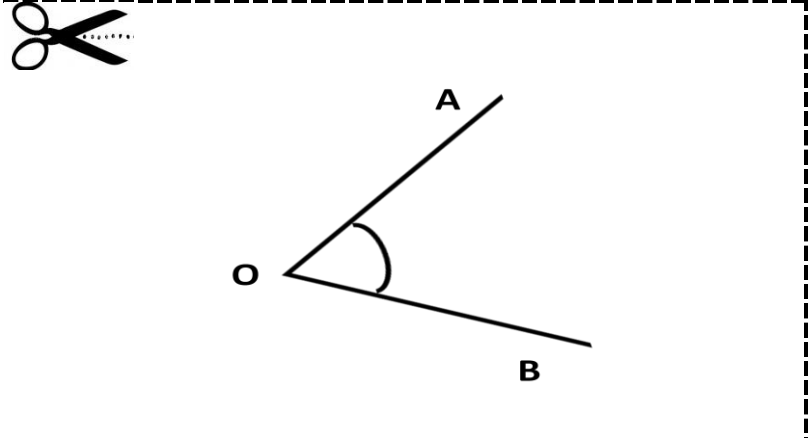


عناصر الإجابة	الامتحان الموحد الإقليمي لنيل شهادة الدروس الابتدائية
	دورة يونيو 2014 مادة: الرياضيات

التنقيط	المحور	رقم السؤال	الجواب
النتيجة الصحيحة (ن 1,5 + ن 1,5)	العمليات الأربع	1	$(9235+25,67)- 60,67 = 9260,67 - 60,67 = 9200$
2		2	$278 \times 56,32 = 15656,96$
2		3	$197,76 \div 48 = 4,12$
ن 2,5	التحويلات والتعاريف العديدة	4	$16\text{dm } 5,34 \text{ m} = 6940 \text{ mm}$
ن 2,5		5	$34,5 \text{ kg } 45\text{hg} = 0,390 \text{ q}$
ن 2,5		6	$16\text{km}^2 \text{ } 78,5\text{dam}^2 = 1600,785 \text{ ha}$
ن 2,5		7	$234\text{cm}^3 \text{ } 17\text{ml } 5\text{l} = 52,51\text{dl}$
جواب صحيح جزئيا ن 1,5		8	$\left(\frac{5}{3} + \frac{1}{4}\right) \times \frac{2}{7} = \frac{23}{12} \times \frac{2}{7} = \frac{46}{84} = \frac{23}{42}$
ن 1	9	$\frac{27}{5} > 5,25 > 5,05 > 5$	
رسم مماثل الشكل الهندسي ABCD مع احترام خاصيات التماثل المحوري 3 ن	المسائل والإثشاء الهندسي	10	

<p>1ن 1ن 1ن 3ن</p> <p>- الزاوية القائمة في الرأس A - قياس AC : - قياس AB : - المجموع :</p>		11	
<p>تمنح نقطتان لكل رسم صحيح ونقطة واحدة لكل رسم لا يتعدى هامش الخطأ فيه 3°</p>		12	
<p>- إيجاد الطول انطلاقاً من قياس المحيط وقياس العرض: 1ن - إيجاد قياس المساحة: 2ن المجموع: 3ن</p>	<p>الطول : 40 متراً المساحة : 800 متراً مربعاً</p>	13	
<p>3,5ن</p>	<p>المدة الزمنية التي تستغرقها هذه السيارة لقطع مسافة 320 كلم: 4 ساعات</p>	14	
<p>- حساب الحجم بالمتر المكعب : 2ن - التحويلات اللازمة للتر: 1ن المجموع: 3ن</p>	<p>إيجاد الحجم: <math>6 \times 3,5 \times 4 = 84 \text{ m}^3</math> <math>84000 \text{ l} = 84 \text{ m}^3</math></p>	15	
<p>40</p>			المجموع

ተጠቃሚዎች ለጥያቄዎ  
ተጠቃሚዎች ለጥያቄዎ  
ለ ጥያቄዎ ጥያቄ



المملكة المغربية  
وزارة التربية الوطنية  
والتكوين المهني