

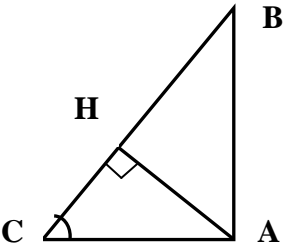
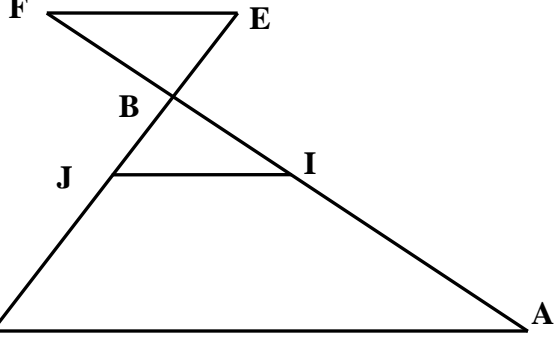


<p>المادة: الرياضيات دورة : يناير 2014 مدة الإنجاز: ساعتان الصفحة 1/2</p>	<p>الامتحان الموحد المحلي ثانوية سيدي بومدين الاعدادية  المستوى : الثالثة ثانوي إعدادي</p>	<p>الأكاديمية الجهوية للتربية والتكوين لجهة فاس - بولمان نيابة: إقليم صفرو </p>
نص الموضوع		سلم التقييم
<p>تمرين 1: (6.5 نقط)</p> <p>(1) أحسب وبسط مايلي : $B = \frac{5}{2} - \left(\frac{2}{3}\right)^{-2}$; $A = \sqrt{2} \times \sqrt{10} \times \sqrt{5}$</p> <p>$D = \sqrt{3 - \sqrt{7}} \times \sqrt{3 + \sqrt{7}}$; $C = \sqrt{45} - 2\sqrt{5} + 3\sqrt{20}$</p> <p>(2) احذف الجذر المربع من مقام العدد : $D = \frac{1}{3 - \sqrt{2}}$</p> <p>(3) اكتب العدد X كتابة علمية : $X = 0,0043 \times 10^7 \times 5$</p> <p>(4) x عدد حقيقي ، اذا علمت ان : $P = (2x + 5)^2 - x(2x + 5)$</p> <p>(أ) أنشر P (ب) عمل P</p>		<p>0,75 ن 1+ ن 1+ ن 0,5 ن 1 ن 1+ ن 1 ن</p>
<p>تمرين 2: (3.5 نقط)</p> <p>(1) قارن العددين : $-3\sqrt{5}$ و $-4\sqrt{3}$</p> <p>(2) x و y و z أعداد حقيقية بحيث : $2 \leq x \leq 3$ و $-7 \leq y \leq -4$ و $1 \leq 5z - 9 \leq 6$</p> <p>أطر كل من الأعداد: (أ) $x + y$; (ب) $x - y$; (ج) xy ; (د) z</p>		<p>0,5 ن 0,5 ن 1+ ن 1 ن 1+ ن</p>
<p>تمرين 3: (3,5 نقط)</p> <p>قياس زاوية حادة غير منعدمة x</p> <p>(1) أحسب وبسط A : $A = (\cos x + \sin x)^2 - 2 \sin x \cos x$</p> <p>(2) اذا علمت ان $\sin x = \frac{2}{5}$ فاحسب $\cos x$</p>		<p>0,75 ن 1 ن</p>
	<p>تمرين 4: (4 نقط)</p> <p>ABC مثلث حيث $AB = \sqrt{5} \text{ cm}$ و $AC = 2 \text{ cm}$ و $BC = 3 \text{ cm}$</p> <p>لتكن النقطة H المسقط العمودي للنقطة A على (BC) (انظر الشكل)</p> <p>(1) بين أن المثلث ABC قائم الزاوية .</p> <p>(2) أحسب $\sin \widehat{ACB}$</p> <p>(3) أحسب المسافة AH .</p>	<p>1 ن 0,5 ن 1 ن</p>
	<p>تمرين 5: (2,5 نقط)</p> <p>ABC مثلث حيث $AB = 6 \text{ cm}$ و $BC = 3 \text{ cm}$ و $AC = 7,5 \text{ cm}$</p> <p>لتكن I نقطة من [AB] حيث $BI = 2 \text{ cm}$</p> <p>الموازي ل (AC) والمار من I يقطع (BC) في J .</p> <p>(1) احسب BJ و IJ .</p> <p>(2) لتكن E نقطة من (BC) و لا تنتمي الى (BC) و F نقطة من (AB) و لا تنتمي الى (BA) بحيث : $BE = 1 \text{ cm}$ و $BF = 2 \text{ cm}$. (انظر الشكل)</p> <p>(أ) بين ان $(EF) \parallel (IJ)$.</p> <p>(ب) بين ان المثلثين BEF و BIJ متقايسان .</p> <p>* (أنظر خلفه التمرين 6)</p>	<p>1+ ن 1 ن 0,5 ن</p>

المادة: الرياضيات
دورة : يناير 2014
مدة الإنجاز: ساعتان
الصفحة 2/2

الامتحان الموحد المحلي
ثانوية سيدي بومدين الإعدادية
المستوى : الثالثة ثانوي إعدادي

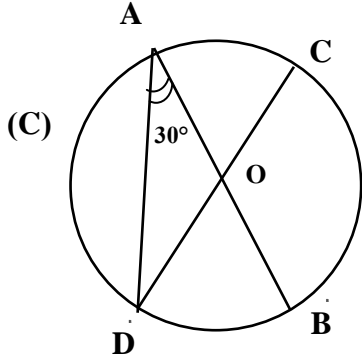


الأكاديمية الجهوية
للتربية والتكوين
لجهة فاس - بولمان
نيابة: إقليم صفرو



تتمة الموضوع وع

سلم
التنقيط



تمرين 1: (5,5 نقط)

[AB] و [CD] قطران في دائرة $C(O ; r)$ بحيث :

$\widehat{BAD} = 30^\circ$. (أنظر الشكل)

أ) احسب قياس الزاوية \widehat{BOD}

ب) احسب قياس الزاوية \widehat{BCD}

0,5 ن

0,5 ن

حظ سعيد

www.9alami.info